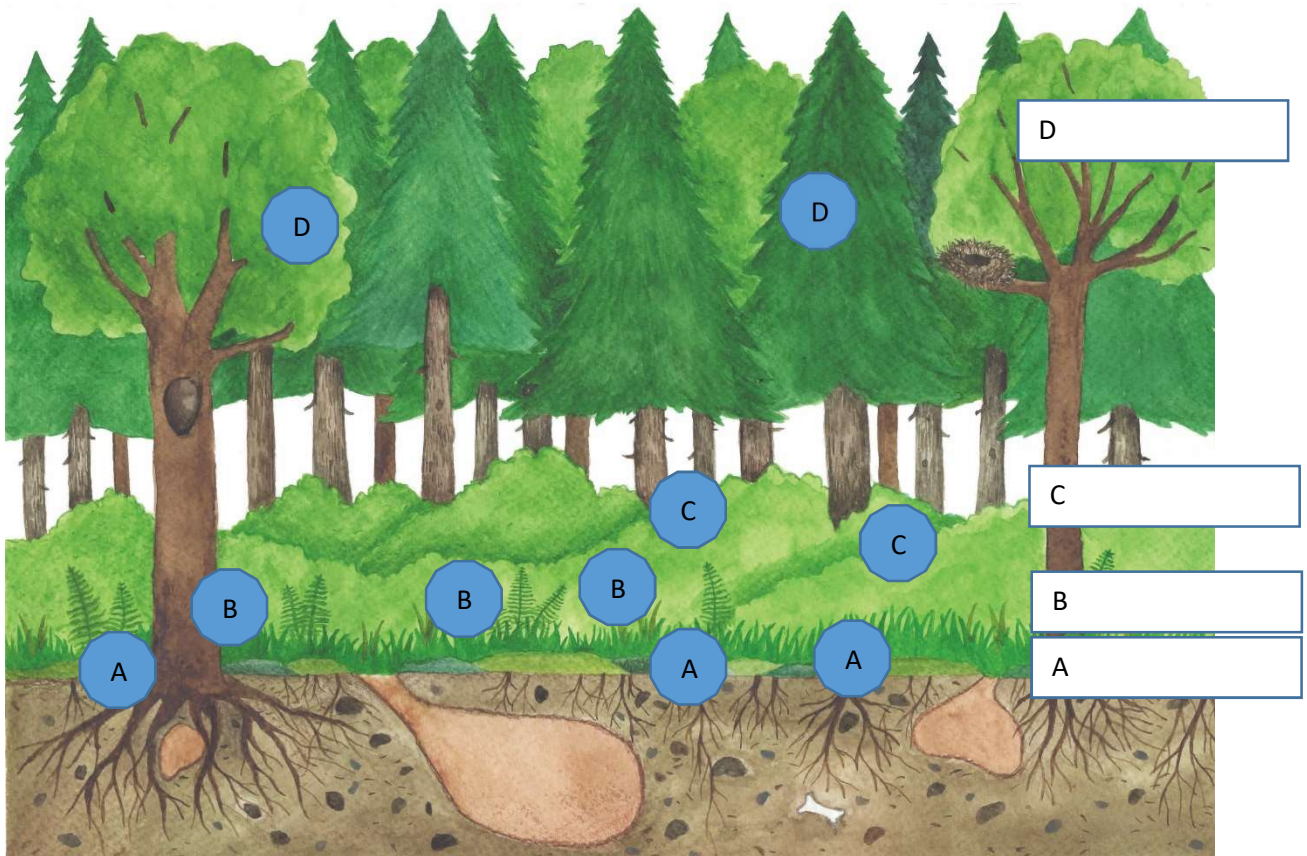












## KP 3, Warstwy lasu i rosnące w nich rośliny

1. Wpisz w ramki obok rysunku lasu nazwy warstw lasu

2. Przyjrzyj się roślinom na zdjęciach w tabelce pod rysunkiem i powtórz ich nazwy. Do każdego kółka przy zdjęciu wpisz literę A, B, C lub D, w zależności od tego, w której warstwie lasu rośnie dana roślina.



Ilustr. 1

<p><b>bielistka siwa</b></p>  <p>Zdj nr 1</p>	<p><b>nerecznica samcza</b></p>  <p>Zdj nr 2</p>	<p><b>jeżyna</b></p>  <p>Zdj nr 3</p>	<p><b>torfowiec</b></p>  <p>Zdj nr 4</p>	<p><b>buk</b></p>  <p>Zdj nr 5</p>
<p><b>malina</b></p>  <p>Zdj nr 6</p>	<p><b>borówka czarna</b></p>  <p>Zdj nr 7</p>	<p><b>jodła</b></p>  <p>Zdj nr 8</p>	<p><b>poziomka</b></p>  <p>Zdj nr 9</p>	<p><b>borowik</b></p>  <p>Zdj nr 10</p>



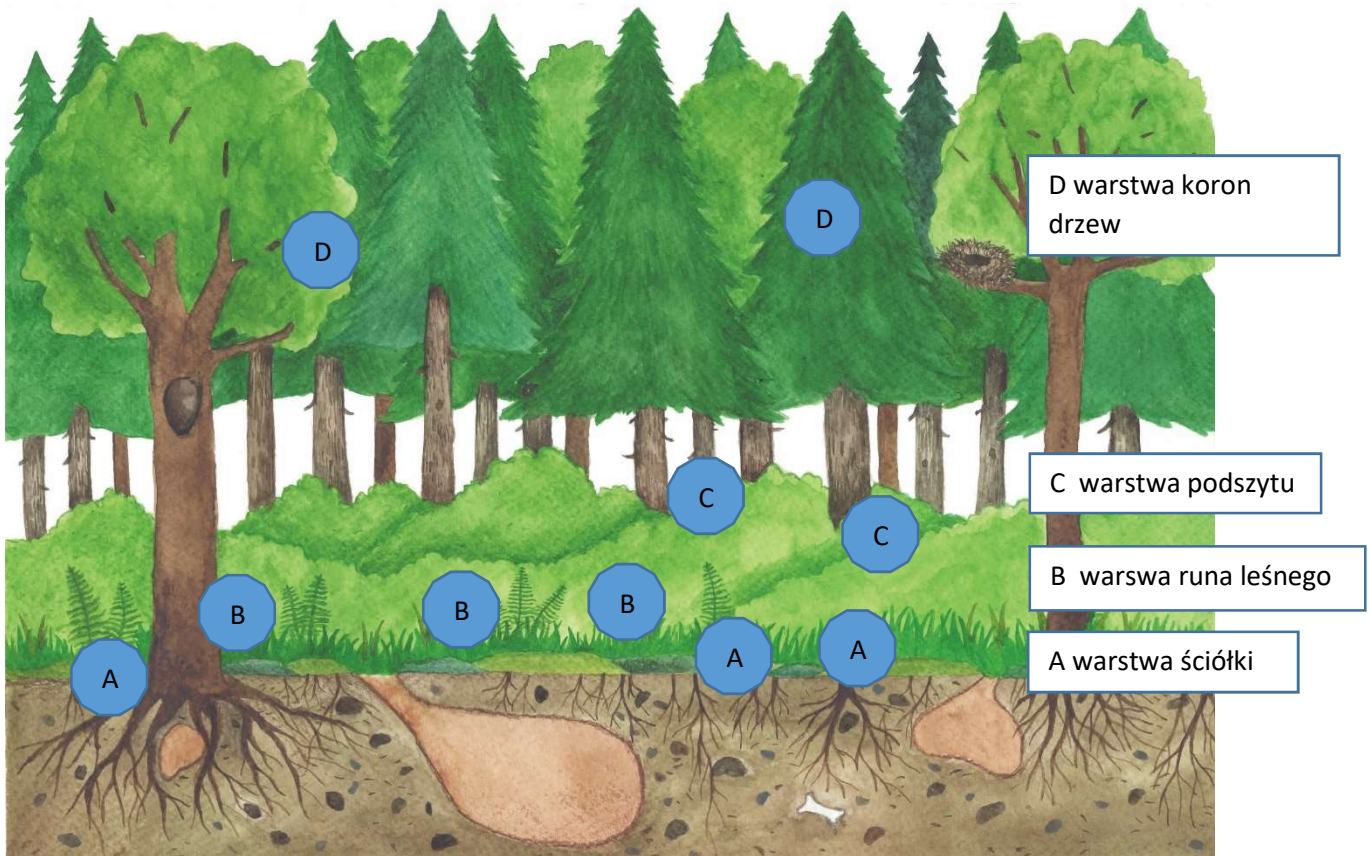
EVROPSKÁ UNIE  
Evropské strukturální a investiční fondy  
Operační program Výzkum, vývoj a vzdělávání











  
 MINISTERSTVO ŠKOLSTVÍ,  
MLÁDEŽE A TĚLOVÝCHOVY

## KP 3, Warstwy lasu i rosnące w nich rośliny

1. Wpisz w ramki obok rysunku lasu nazwy warstw lasu

2. Przyjrzyj się roślinom na zdjęciach w tabelce pod rysunkiem i powtórz ich nazwy. Do każdego kółka przy zdjęciu wpisz literę A, B, C lub D, w zależności od tego, w której warstwie lasu rośnie dana roślina.



<p><b>bielistka siwa</b></p>  <p>A</p>	<p><b>nerecznica samcza</b></p>  <p>B</p>	<p><b>jeżyna</b></p>  <p>C</p>	<p><b>torfowiec</b></p>  <p>A</p>	<p><b>buk</b></p>  <p>D</p>
<p><b>malina</b></p>  <p>C</p>	<p><b>borówka czarna</b></p>  <p>B</p>	<p><b>jodła</b></p>  <p>D</p>	<p><b>poziomka</b></p>  <p>B</p>	<p><b>borowik</b></p>  <p>A</p>



EVROPSKÁ UNIE  
Evropské strukturální a investiční fondy  
Operační program Výzkum, vývoj a vzdělávání

  
 MINISTERSTVO ŠKOLSTVÍ,  
MLÁDEŽE A TĚLOVÝCHOVY

Žródlo:

obr. 1

[https://cs.wikipedia.org/wiki/B%C4%9Blomech\\_siv%C3%BD#/media/Soubor:Leucobryum\\_glaucum.jpg](https://cs.wikipedia.org/wiki/B%C4%9Blomech_siv%C3%BD#/media/Soubor:Leucobryum_glaucum.jpg)

obr. 2

<https://pixabay.com/cs/photos/kapra%C4%8F-kaprad%C3%AD-p%C5%99%C3%ADroda-kapra%C4%8F-samec-543736/>

obr. 3

<https://pixabay.com/cs/photos/bobule-ostru%C5%BEiny-ovoce-zral%C3%BD-3513546/>

obr. 4

<https://pixabay.com/cs/photos/ra%C5%A1elin%C3%ADk-ra%C5%A1elini%C5%A1t%C4%9B-na-podzim-697052/>

obr. 5

<https://pixabay.com/cs/photos/list-buk-%C5%BElut%C3%A1-oran%C5%BEov%C3%A1-mech-3016536/>

obr. 6

<https://pixabay.com/cs/photos/malina-ovoce-bobule-%C4%8Derven%C3%A1-zral%C3%A9-3454504/>

obr. 7

<https://pixabay.com/cs/photos/bor%C5%AFvka-ovoce-bobule-bickbeere-476544/>

obr. 8

<https://pixabay.com/cs/photos/tannenzweig-borovice-jedle-11320/>

obr. 9

Mgr. Jana Karpecká, MBA

obr. 10

<https://pixabay.com/cs/photos/b%C4%9B%C5%BEen%C3%A9-houby-h%C5%99ib-smrkov%C3%BD-houba-180712>



EVROPSKÁ UNIE  
Evropské strukturální a investiční fondy  
Operační program Výzkum, vývoj a vzdělávání

  
MINISTERSTVO ŠKOLSTVÍ,  
MLÁDEŽE A TĚLOVÝCHOVY