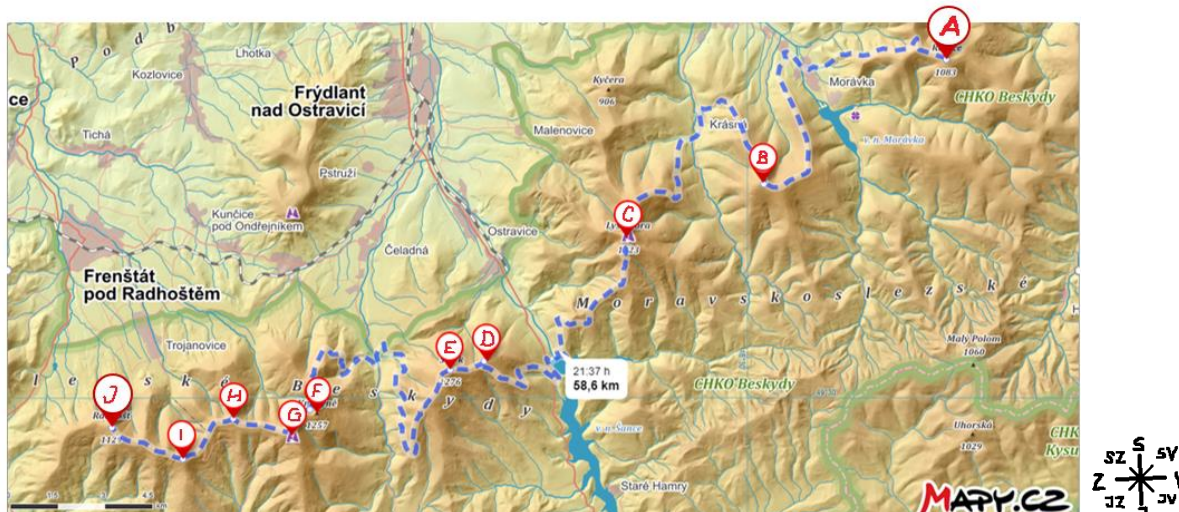


## KP 5 Podróż przez szczyty Beskidów w Republice Czeskiej - ROZWIĄZANIE

Blok tematyczny nr 2 Geologia Beskidów, temat nr 1 Podróż przez szczyty Beskidów w Republice Czeskiej

W trakcie spaceru **palcem po mapie** szlakami turystycznymi **poznaj nazwy** najwyższych gór Beskidów na terenie Czech.

**A** Na poniższej mapie, idąc od północnego wschodu na południowy zachód, **wpisz** w kółka **litery wskazujące szczyty** w tej kolejności, w jakiej podane są w tabeli poniżej (pierwszy szczyt będzie więc oznaczony literą A).

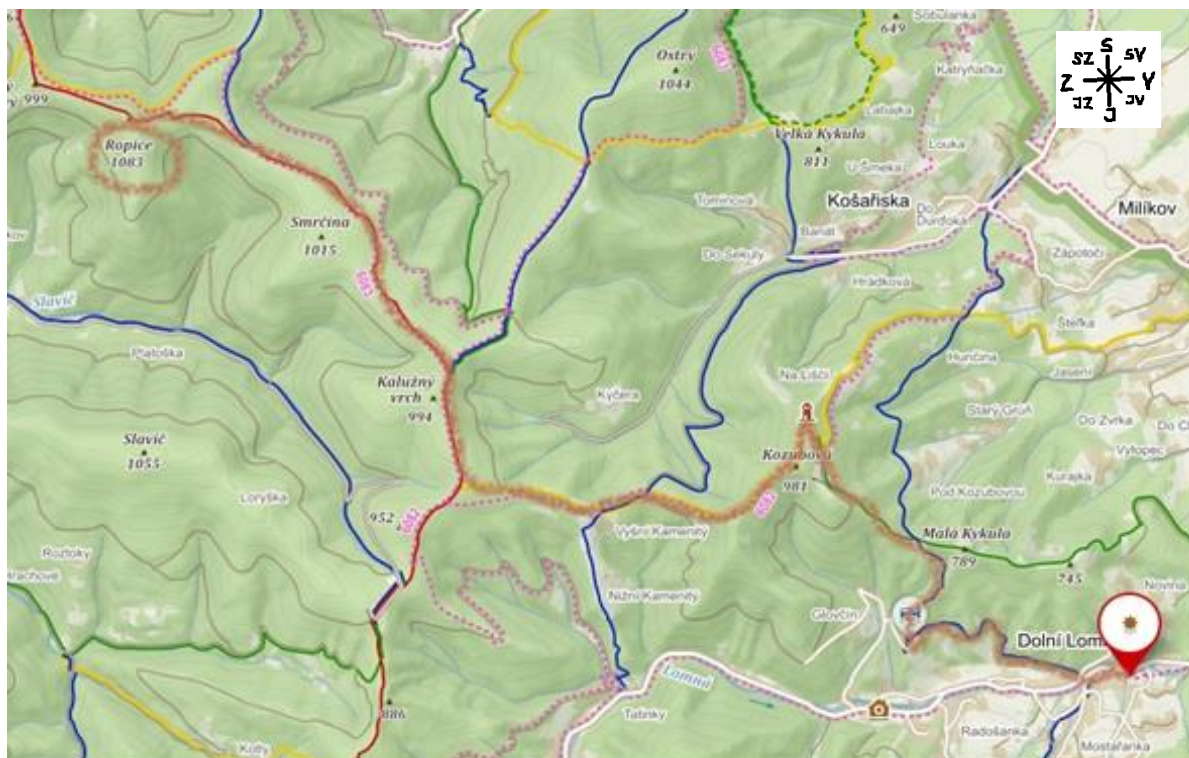


**B** Kierując się opisami umieszczonymi pod kolejnymi mapkami 1–6 wędruj po zaznaczonym szlaku **od jednego szczytu do drugiego**. Każdy szczyt **wpisz do ramki** pod mapką i dopisz jego wysokość n.p.m. Ramkę wytnij. Nazwę i wysokość szczytu **wpisz także do tabeli**. Wycięte ramki ułóż w malejącej kolejności według wysokości szczytów, a w tabelce wpisz przy każdym szczycie numer pozycji danego szczytu w rankingu.

Nazwa szczytu	Wysokość nad poziomem morza(w metrach)	Pozycja w rankingu
A <i>Ropice</i>	1083	10.
B <i>Travný</i>	1203	5.
C <i>Łysa Góra</i>	1323	1.
D <i>Mały Smrek</i>	1174	6.
E <i>Smrek</i>	1276	2.
F <i>Kněhyně</i>	1257	3.
G <i>Čertův Mlýn</i>	1206	4.
H <i>Tanečnice</i>	1084	9.
I <i>Radegast</i>	1108	8.
J <i>Radhošť</i>	1129	7.



1.



	turistické značené trasy		lyžařský vlek		hlavní silnice		rozhledna		Říp 455	vrchol s názvem a výškou
---	--------------------------	---	---------------	---	----------------	---	-----------	---	------------	-----------------------------

Náša výprava začína sa pri ošrodku ekologickým URSUS v ľomnej Dolnej (červený szlak). Wyrusasz gľówną drogą na zachód, po chvíli dojdiesz do niebieskiego szlaku. Dalej idiesz na pľonocny zachód, na skrzyżowaniu skřęszisz na zielony szlak na zachód, a potem z punktu widokowego na Kozubovej żółtym szlakiem na pľodniowy zachód. Żółty szlak przechodzi w czerwony, którym idziesz dalej na pľonoc. Po kolei mijasz po lewej stronie 3 szczyty, z których trzeci to ten, którego szukamy A, ROPICE (1083 m n.p.m.)

A

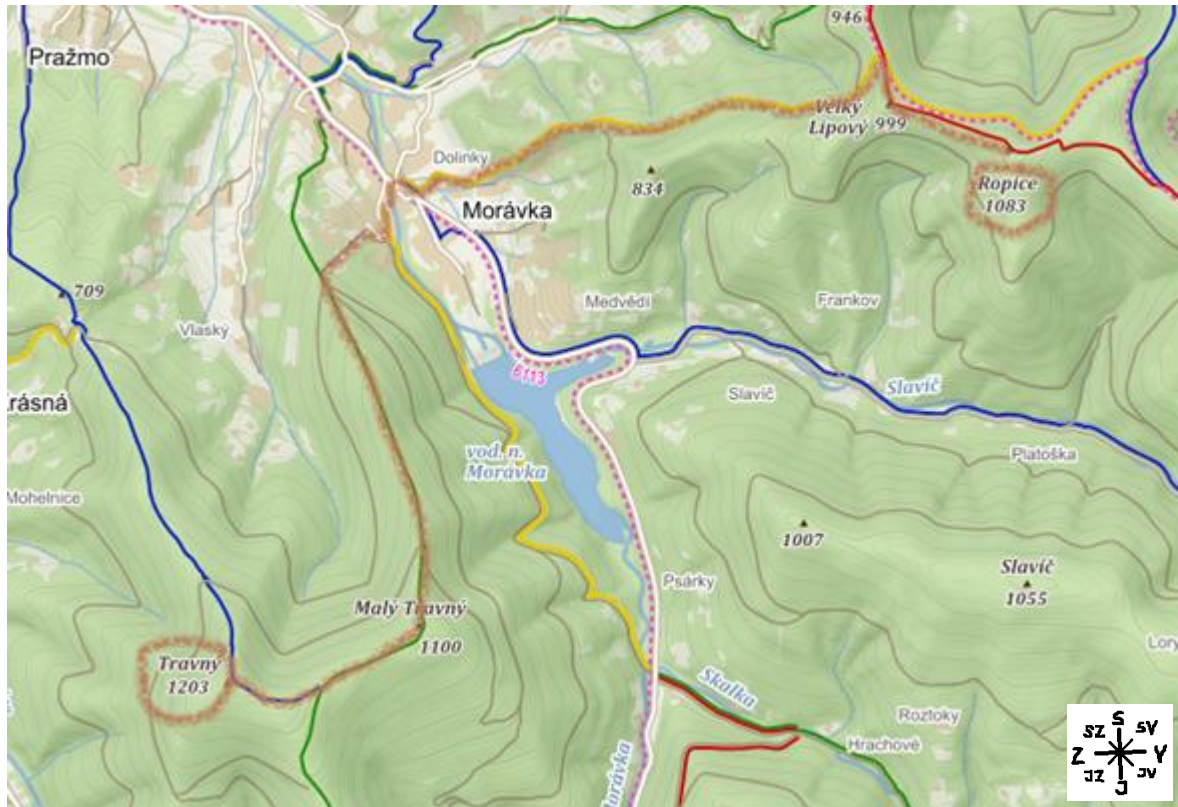
**ROPICE** 1083 m n. p.m.



EVROPSKÁ UNIE  
Evropské strukturální a investiční fondy  
Operační program Výzkum, vývoj a vzdělávání



2.



	turistické značené trasy turistický směrovník		lyžařský vlek		hlavní silnice		rozhledna		vrchol s názvem a výškou
--	--	--	---------------	--	----------------	--	-----------	--	-----------------------------

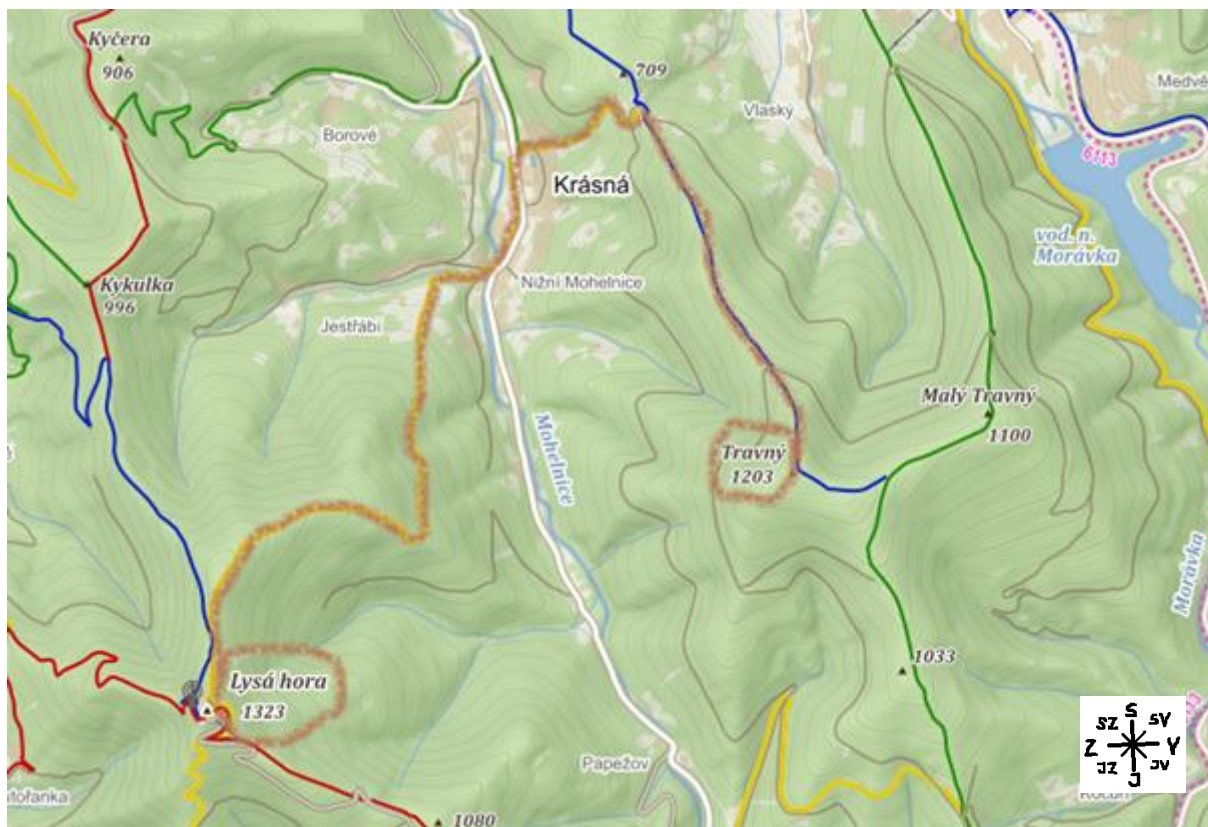
Znajdź szczyt (A) z poprzedniej mapy i kontynuuj wędrówkę od niego czerwonym szlakiem na zachód aż do skrzyżowania, gdzie skręcisz na żółty szlak. Idziesz dalej na zachód, aż dojdiesz do głównej drogi w centrum Moravki. Idziesz główną drogą (ciągle żółtym szlakiem), a przy najbliższej okazji skręcisz w kierunku wyciągu narciarskiego, który „wywiezie” Cię na zielony szlak. Zielonym szlakiem idziesz na południe, po drodze miniesz szczyt (1100 m n.p.m.) sąsiadujący z szukanym przez nas szczytem B, do którego doprowadzi Cię niebieski szlak. Jest to góra Travný (1203 m n.p.m.).

B

**TRAVNÝ** 1203 m n.p.m.



3.



	turistické značené trasy turistický směrovník		lyžařský vlek		hlavní silnice		rozhledna		Říp ▲ 455 vrchol s názvem a výškou
--	--	--	---------------	--	----------------	--	-----------	--	--

Znajdź niebieski szlak i znany już drugi szczyt (B) i idź dalej na północ niebieskim szlakiem. Na skrzyżowaniu przejdź na żółty i po długiej wspinaczce w kierunku południowego zachodu dojdiesz na najwyższy szczyt Beskidów w Czechach, którym jest Lysá Góra (1323 m n.p.m.), punkt C.

C

**ŁYSA GÓRA** 1323 m n. p.m.




EVROPSKÁ UNIE  
Evropské strukturální a investiční fondy  
Operační program Výzkum, vývoj a vzdělávání



4.



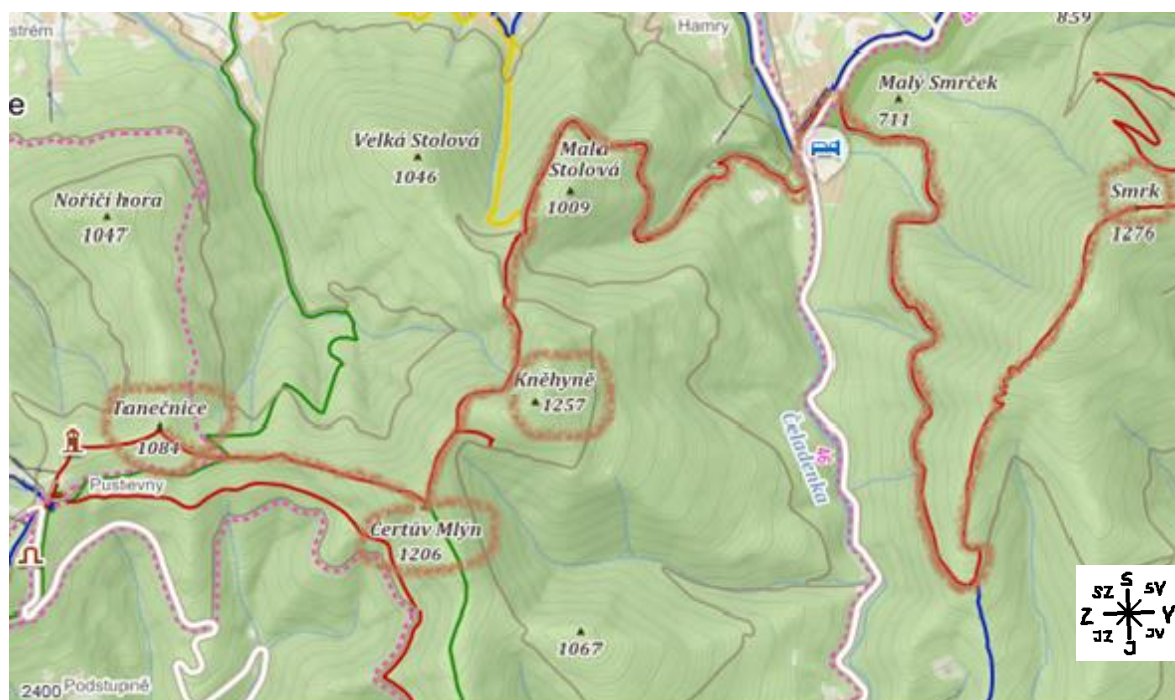
	turistické značené trasy		lyžařský vlek		hlavní silnice		rozhledna		Říp 455	vrchol s názvem a výškou
---	--------------------------	---	---------------	---	----------------	---	-----------	---	------------	-----------------------------

Znajdź poprzedni szczyt C i kontynuuj wędrówkę od niego na południe żółtym szlakiem aż do zapory (Šance), przez którą przejdiesz. Potem idź dalej żółtym szlakiem (musisz przejść pod drogą szybkiego ruchu numer 56). Część trasy łączy się potem z niebieskim szlakiem, na którym mijasz szukany szczyt D Mały Smrek (1174 m n.p.m.). Po połączeniu szlaku z czerwonym szlakiem idź na południowy zachód, aż dojdiesz do szczytu o podobnej nazwie, który jest naszym szczytem E Smrek (1276 m n.p.m.).

D	<b>MAŁY SMREK</b>	<u>1174</u> m n.p. m.
E	<b>SMREK</b>	<u>1276</u> m n. p.m.



5.



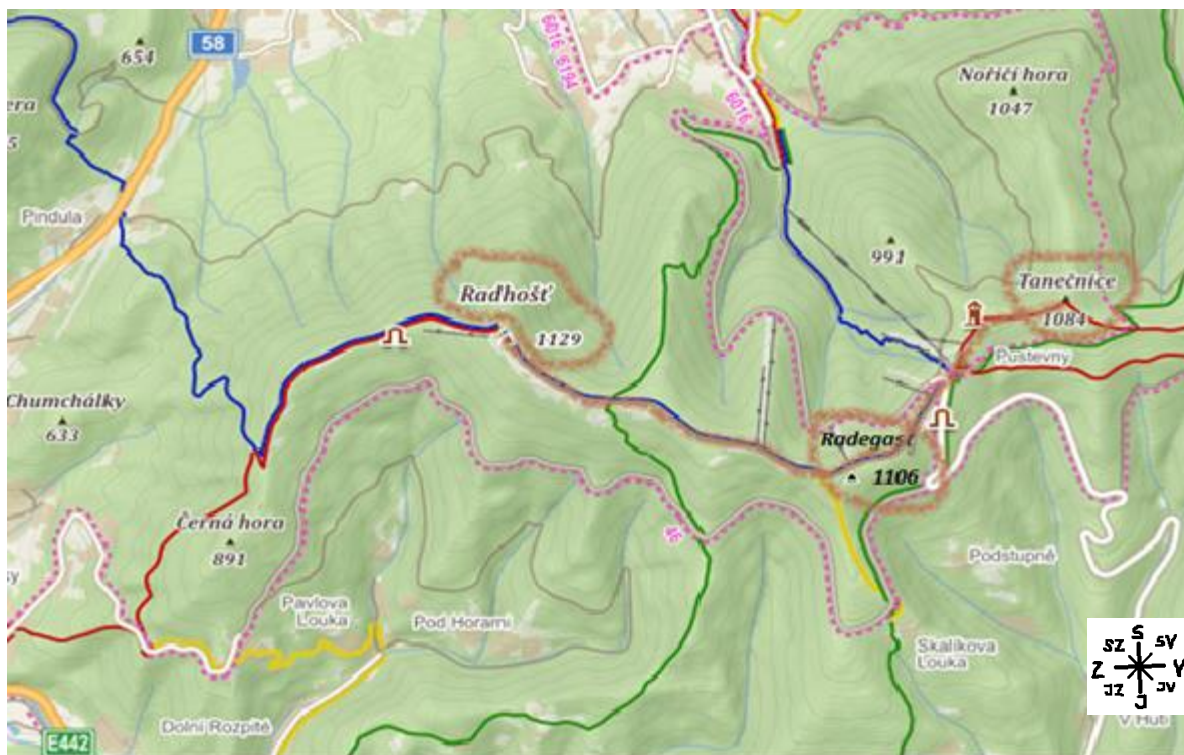
	turistické značené trasy		lyžařský vlek		hlavní silnice		rozhledna		Říp 455	vrchol s názvem a výškou
--	--------------------------	--	---------------	--	----------------	--	-----------	--	------------	-----------------------------

Na tym fragmencie mapy są aż trzy szukane szczyty, wszystkie na czerwonym szlaku. Na czerwonym szlaku znajdź szczyt z poprzedniej mapy (E) i kontynuuj do miejsca, gdzie trasa przecina drogę główną. Nie schodź z czerwonego szlaku, przejdź obok skrzyżowania z żółtym szlakiem i za nim, idąc dalej na południe, miniesz pierwszy szukany szczyt F Kněhyně (1257 m n.p.m.). Kawalek dalej, w miejscu krzyżowania się czerwonego szlaku z zielonym jest szczyt G Čertův mlýn (1206 m n.p.m.). Od niego idź dalej na zachód, po drodze znów czerwony szlak krzyżuje się z zielonym. Jeszcze przed punktem widokowym dojdiesz do kolejnego tysiącznika Beskidów, szczytu H Tanečnice (1084 m n.p.m.).

F	<b>KNĚHYNĚ</b>	<u>1257</u>	m n.p.m.
G	<b>ČERTŮV MLÝN</b>	<u>1206</u>	m n.p.m.
H	<b>TANEČNICE</b>	<u>1084</u>	m n.p.m.



6.



	turistické značené trasy		lyžařský vlek		hlavní silnice		rozhledna		Říp 455	vrchol s názvem a výškou
---	--------------------------	---	---------------	---	----------------	---	-----------	---	------------	-----------------------------

Zostaly nam dwa ostatnie szczyty, nazwy obu zaczynają się na tę samą literę. Za punktem widokowym przejdiesz z czerwonego szlaku na niebieski, kieruj się na południe i niedaleko miejsca, gdzie dołącza się żółty szlak, miniesz po lewej stronie pierwszy szczyt, L Radegast (1108 m n.p.m.). Idź dalej niebieskim szlakiem, aż wspiniesz się na ostatni z dziesięciu najwyższych szczytów Beskidu Śląsko-Morawskiego, szczyt J, Radhošť (1129 m n.p.m.).

I	<b>RADEGAST</b>	<u>1108</u>	m n.p.m.
J	<b>RADHOŠŤ</b>	<u>1129</u>	m n.p.m.

Nie zapomnij ułożyć wyciętych ramek z nazwami szczytów w malejącej kolejności według ich wysokości, a następnie wpisać numeru pozycji do ostatniej kolumny tabeli.

