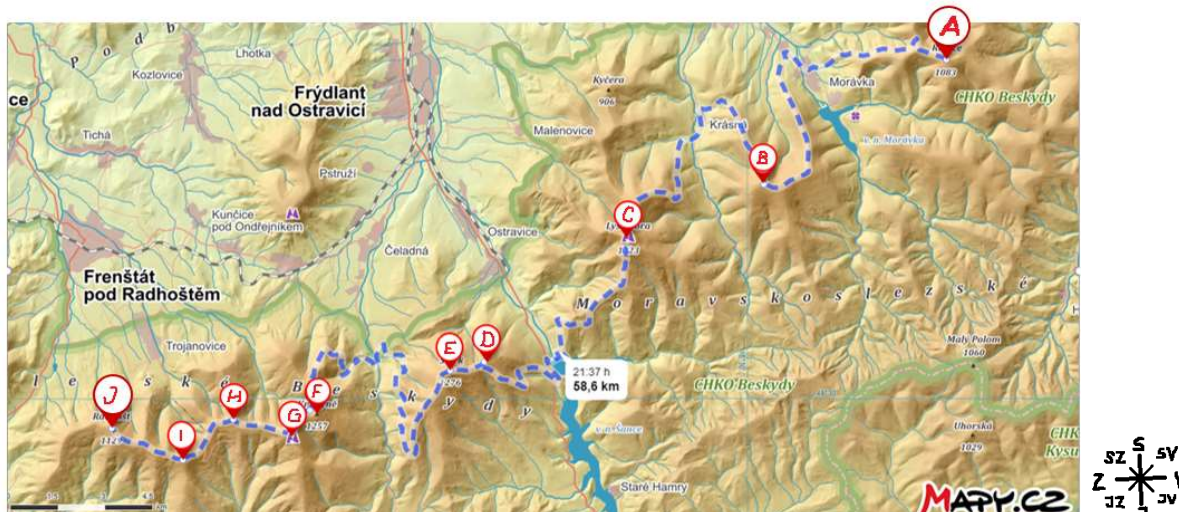


## KP 5 Podróż przez szczyty Beskidów w Republice Czeskiej

Blok tematyczny nr 2 Geologia Beskidów, temat nr 1 Podróż przez szczyty Beskidów w Republice Czeskiej

W trakcie spaceru **palcem po mapie** szlakami turystycznymi **poznaj nazwy** najwyższych gór Beskidów na terenie Czech.

**A** Na poniższej mapie, idąc od północnego wschodu na południowy zachód, **wpisz** w kółka **litery wskazujące szczyty** w tej kolejności, w jakiej podane są w tabeli poniżej (pierwszy szczyt będzie więc oznaczony literą A).

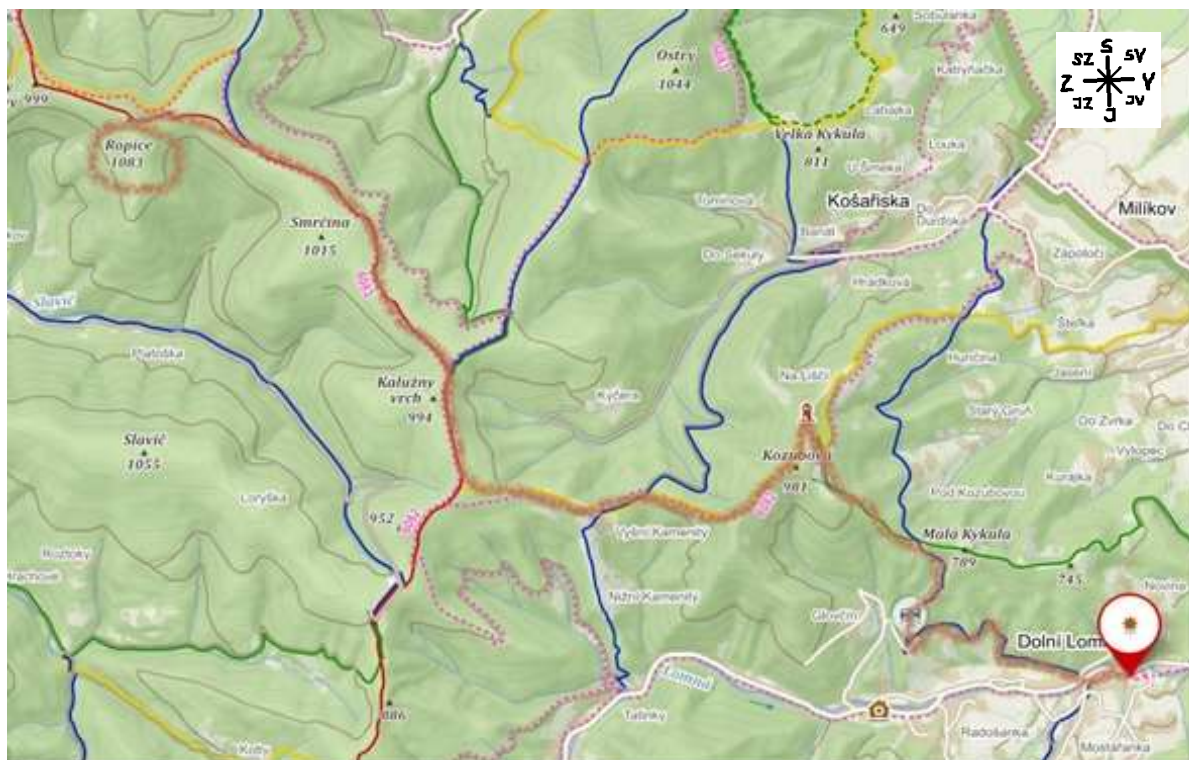






**B** Kierując się opisami umieszczonymi pod kolejnymi mapkami 1–6 wędruj po zaznaczonym szlaku **od jednego szczytu do drugiego**. Każdy szczyt **wpisz do ramki** pod mapką i dopisz jego wysokość n.p.m. Ramkę wytnij. Nazwę i wysokość szczytu **wpisz także do tabeli**. Wycięte ramki ułóż w malejącej kolejności według wysokości szczytów, a w tabelce wpisz przy każdym szczycie numer pozycji danego szczytu w rankingu.

| Nazwa szczytu | Wysokość nad poziomem morza(w metrach) | Pozycja w rankingu |
|---------------|--|--------------------|
| A             |  |                    |
| B             |  |                    |
| C             |  |                    |
| D             |  |                    |
| E             |  |                    |
| F             |  |                    |
| G             |  |                    |
| H             |  |                    |
| I             |  |                    |
| J             |  |                    |



1.



|   |  |   |               |   |                |   |           |   |                             |
|---|--|---|---------------|---|----------------|---|-----------|---|-----------------------------|
|  | turistické značené trasy<br>turistický směrovník |  | lyžařský vlek |  | hlavní silnice |  | rozhledna |  <b>Říp</b><br>455 | vrchol s názvem<br>a výškou |
|---|--|---|---------------|---|----------------|---|-----------|---|-----------------------------|

Náša wyprawa zaczyna się przy ośrodku ekologicznym URSUS w łomnej Dolnej (czerwony szlak). Wyruszasz główną drogą na zachód, po chwili dojdiesz do niebieskiego szlaku. Dalej idziesz na północny zachód, na skrzyżowaniu skręcisz na zielony szlak na zachód, a potem z punktu widokowego na Kozubovej żółtym szlakiem na południowy zachód. Żółty szlak przechodzi w czerwony, którym idziesz dalej na północ. Po kolei mijasz po lewej stronie 3 szczyty, z których trzeci to ten, którego szukamy A, \_\_\_\_\_ (\_\_\_\_\_ m n.p.m.)

A

\_\_\_\_\_ m n. p.m.



2.



|  |  |  |               |  |                |  |           |  |            |                             |
|--|--|--|---------------|--|----------------|--|-----------|--|------------|-----------------------------|
|  | turistické značené trasy<br>turistický směrovník |  | lyžařský vlek |  | hlavní silnice |  | rozhledna |  | Říp<br>455 | vrchol s názvem<br>a výškou |
|--|--|--|---------------|--|----------------|--|-----------|--|------------|-----------------------------|

Znajdź szczyt (A) z poprzedniej mapy i kontynuuj wędrówkę od niego czerwonym szlakiem na zachód aż do skrzyżowania, gdzie skręcisz na żółty szlak. Idziesz dalej na zachód, aż dojdiesz do głównej drogi w centrum Moravki. Idziesz główną drogą (ciągle żółtym szlakiem), a przy najbliższej okazji skręcisz w kierunku wyciągu narciarskiego, który „wywiezie” Cię na zielony szlak. Zielonym szlakiem idziesz na południe, po drodze miniesz szczyt (1100 m n.p.m.) sąsiadujący z szukanym przez nas szczytem B, do którego doprowadzi Cię niebieski szlak. Jest to góra \_\_\_\_\_ (\_\_\_\_\_ m n.p.m.).

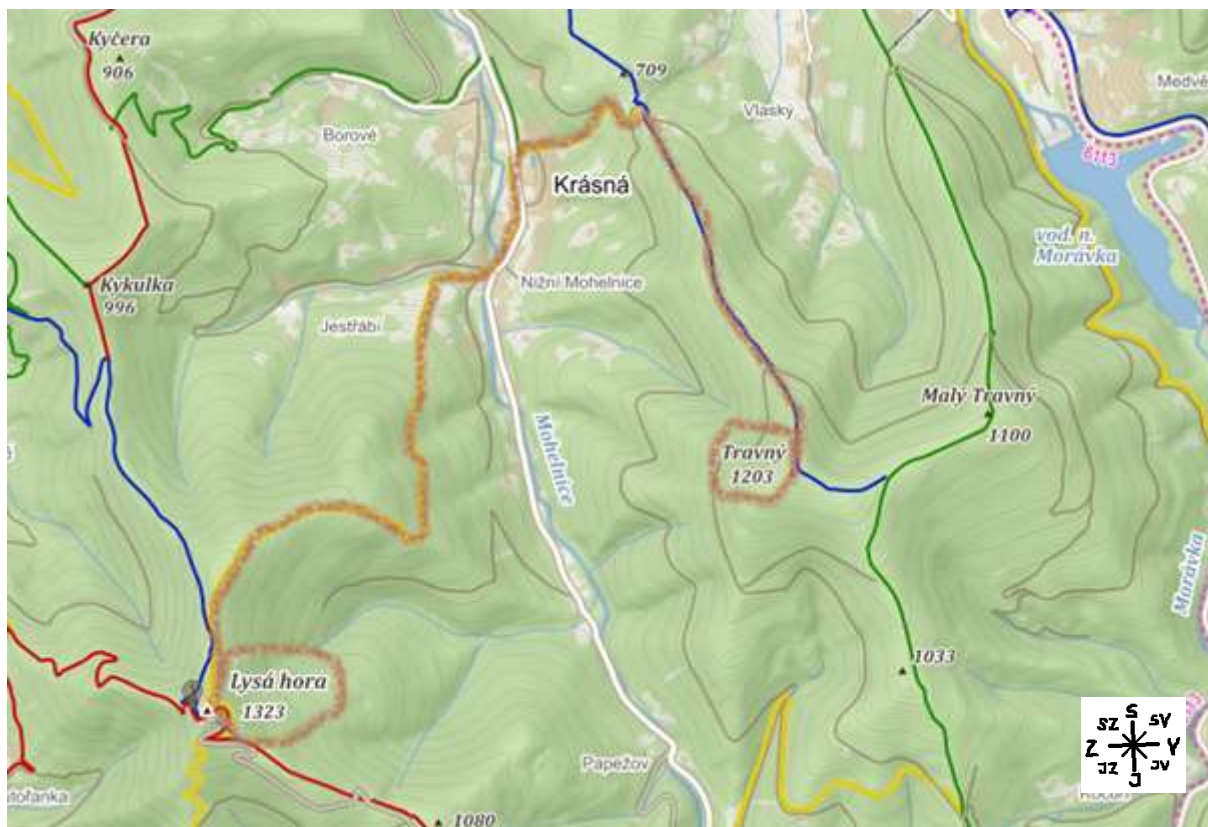
B

\_\_\_\_\_ m n.p.m.





3.



|  |  |  |               |  |                |  |           |  |                                    |
|--|--|--|---------------|--|----------------|--|-----------|--|------------------------------------|
|  | turistické značené trasy<br>turistický směrovník |  | lyžařský vlek |  | hlavní silnice |  | rozhledna |  | říp<br>vrchol s názvem<br>a výškou |
|--|--|--|---------------|--|----------------|--|-----------|--|------------------------------------|

Znajdź niebieski szlak i znany już drugi szczyt (B) i idź dalej na północ niebieskim szlakiem. Na skrzyżowaniu przejdź na żółty i po długiej wspinaczce w kierunku południowego zachodu dojdiesz na najwyższy szczyt Beskidów w Czechach, którym jest \_\_\_\_\_ (\_\_\_\_\_ m n.p.m.), punkt C.

C

\_\_\_\_\_ m n. p.m.



4.



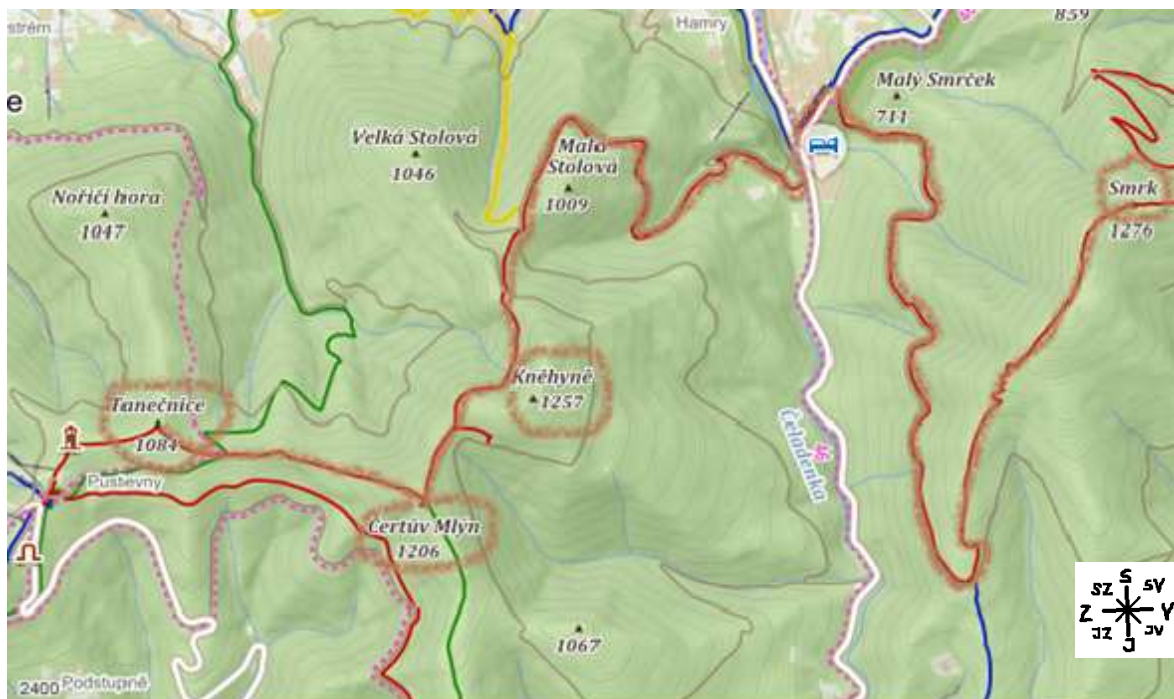
|  |  |  |               |  |                |  |           |  |            |                             |
|--|--|--|---------------|--|----------------|--|-----------|--|------------|-----------------------------|
|  | turistické značené trasy<br>turistický směrovník |  | lyžařský vlek |  | hlavní silnice |  | rozhledna |  | Říp<br>455 | vrchol s názvem<br>a výškou |
|--|--|--|---------------|--|----------------|--|-----------|--|------------|-----------------------------|

Znajdź poprzedni szczyt C i kontynuuj wędrówkę od niego na południe żółtym szlakiem aż do zapory (Šance), przez którą przejdiesz. Potem idź dalej żółtym szlakiem (musisz przejść pod drogą szybkiego ruchu numer 56). Część trasy łączy się potem z niebieskim szlakiem, na którym mijasz szukany szczyt D \_\_\_\_\_ (\_\_\_\_\_ m n.p.m.). Po połączeniu szlaku z czerwonym szlakiem idź na południowy zachód, aż dojdiesz do szczytu o podobnej nazwie, który jest naszym szczytem E \_\_\_\_\_ (\_\_\_\_\_ m n.p.m.).

|   |                 |
|---|-----------------|
| D | _____ m n.p. m. |
| E | _____ m n. p.m. |



5.



|  |  |  |               |  |                |  |           |  |   |
|--|--|--|---------------|--|----------------|--|-----------|--|---|
|  | turistické značené trasy<br>turistický směrovník |  | lyžařský vlek |  | hlavní silnice |  | rozhledna |  | Říp<br>455<br>vrchol s názvem<br>a výškou |
|--|--|--|---------------|--|----------------|--|-----------|--|---|

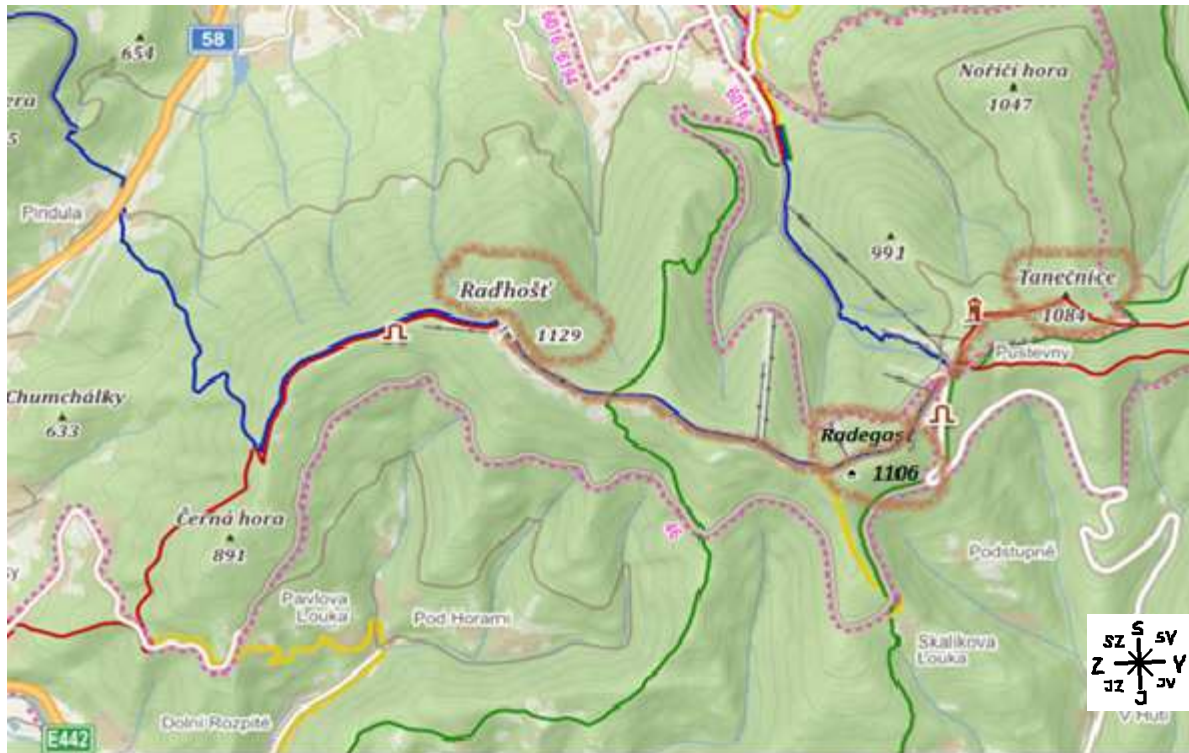
Na tym fragmencie mapy są aż trzy szukane szczyty, wszystkie na czerwonym szlaku. Na czerwonym szlaku znajdź szczyt z poprzedniej mapy (E) i kontynuuj do miejsca, gdzie trasa przecina drogę główną. Nie schodź z czerwonego szlaku, przejdź obok skrzyżowania z żółtym szlakiem i za nim, idąc dalej na południe, miniesz pierwszy szukany szczyt F \_\_\_\_\_ (\_\_\_\_\_ m n.p.m.). Kawałek dalej, w miejscu krzyżowania się czerwonego szlaku z zielonym jest szczyt G \_\_\_\_\_ (\_\_\_\_\_ m n.p.m.). Od niego idź dalej na zachód, po drodze znów czerwony szlak krzyżuje się z zielonym. Jeszcze przed punktem widokowym dojdiesz do kolejnego tysiącznika Beskidów, szczytu H \_\_\_\_\_ (\_\_\_\_\_ m n.p.m.).


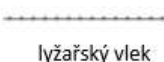



|   |                |
|---|----------------|
| F | _____ m n.p.m. |
| G | _____ m n.p.m. |
| H | _____ m n.p.m. |





6.



|   |                          |   |               |   |                |   |           |   |                          |
|---|--------------------------|---|---------------|---|----------------|---|-----------|---|--------------------------|
|  | turistické značené trasy |  | lyžařský vlek |  | hlavní silnice |  | rozhledna |  | vrchol s názvem a výškou |
|---|--------------------------|---|---------------|---|----------------|---|-----------|---|--------------------------|

Zostały nam dwa ostatnie szczyty, nazwy obu zaczynają się na tę samą literę. Za punktem widokowym przejdiesz z czerwonego szlaku na niebieski, kieruj się na południe i niedaleko miejsca, gdzie dołącza się żółty szlak, miniesz po lewej stronie pierwszy szczyt, L \_\_\_\_\_ (\_\_\_\_\_ m n.p.m.). Idź dalej niebieskim szlakiem, aż wespnieiesz się na ostatni z dziesięciu najwyższych szczytów Beskidu Śląsko-Morawskiego, szczyt J, \_\_\_\_\_ (\_\_\_\_\_ m n.p.m.).

|   |                |
|---|----------------|
| I | _____ m n.p.m. |
| J | _____ m n.p.m. |

Nie zapomnij ułożyć wyciętych ramek z nazwami szczytów w malejącej kolejności według ich wysokości, a następnie wpisać numeru pozycji do ostatniej kolumny tabeli.

