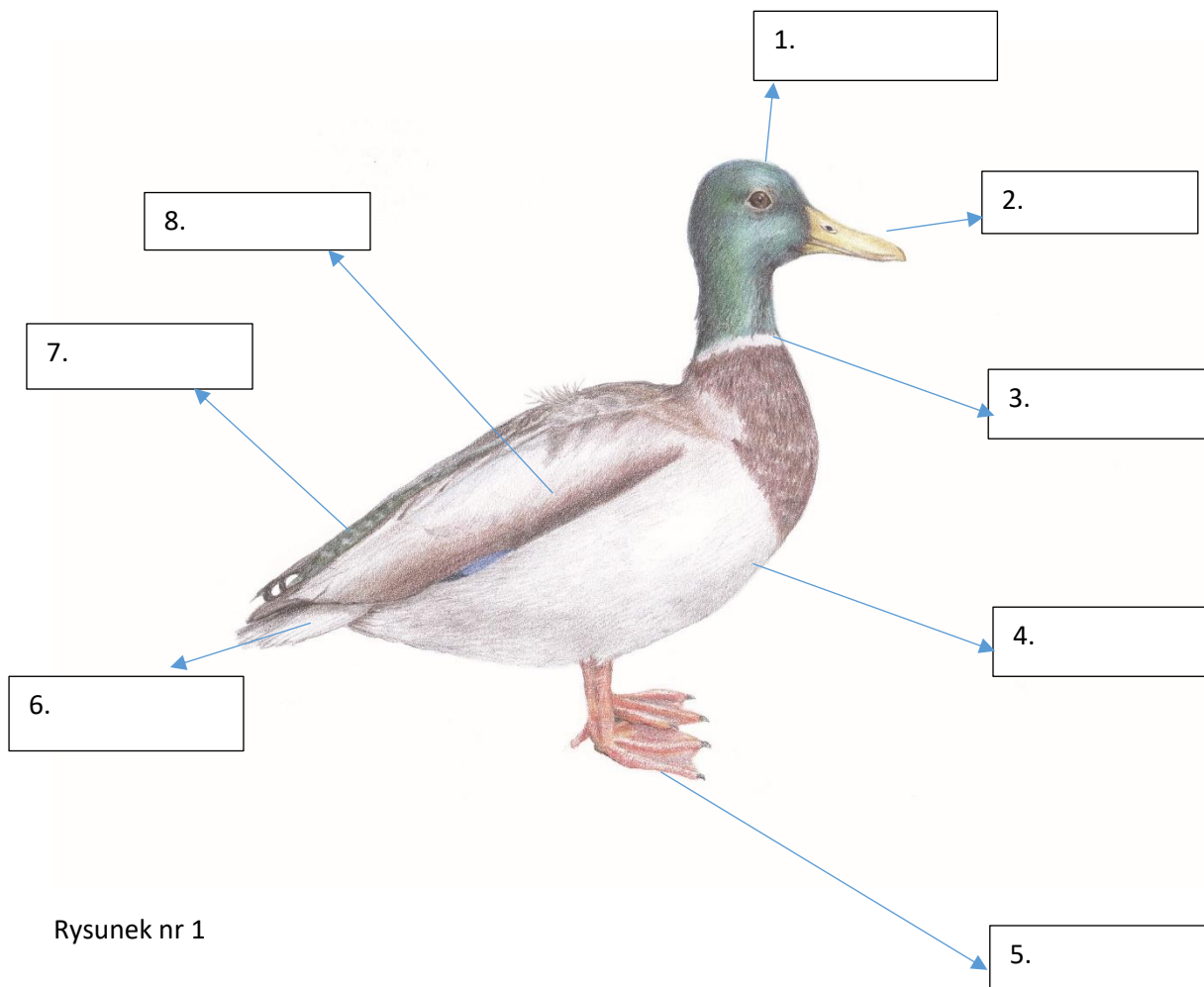


KP 5 Budowa ciała ptaków

Zadanie nr 1

Jak nazywają się podstawowe części ciała ptaka? Wpisz odpowiednie nazwy w ramki.

GŁOWA	SKRZYDŁO	TUŁÓW	DZIÓB
OGON	WOLE	NOGA	LOTKA



Rysunek nr 1

Zadanie nr 2

Odpowiedz na poniższe pytania.

DO CZEGO SŁUŻY WOLE?

CO MAJĄ NA NOGACH DRAPIEŻNIKI?

CO TO JEST LOTKA?

ROZPOZNASZ PTAKA NA RYSUNKU?

TO PTAK GNIAZDOWNIK CZY ZAGNIAZDOWNIK?

CO OZNACZA POJĘCIE PTAK GNIAZDOWNIK I PTAK ZAGNIAZDOWNIK??

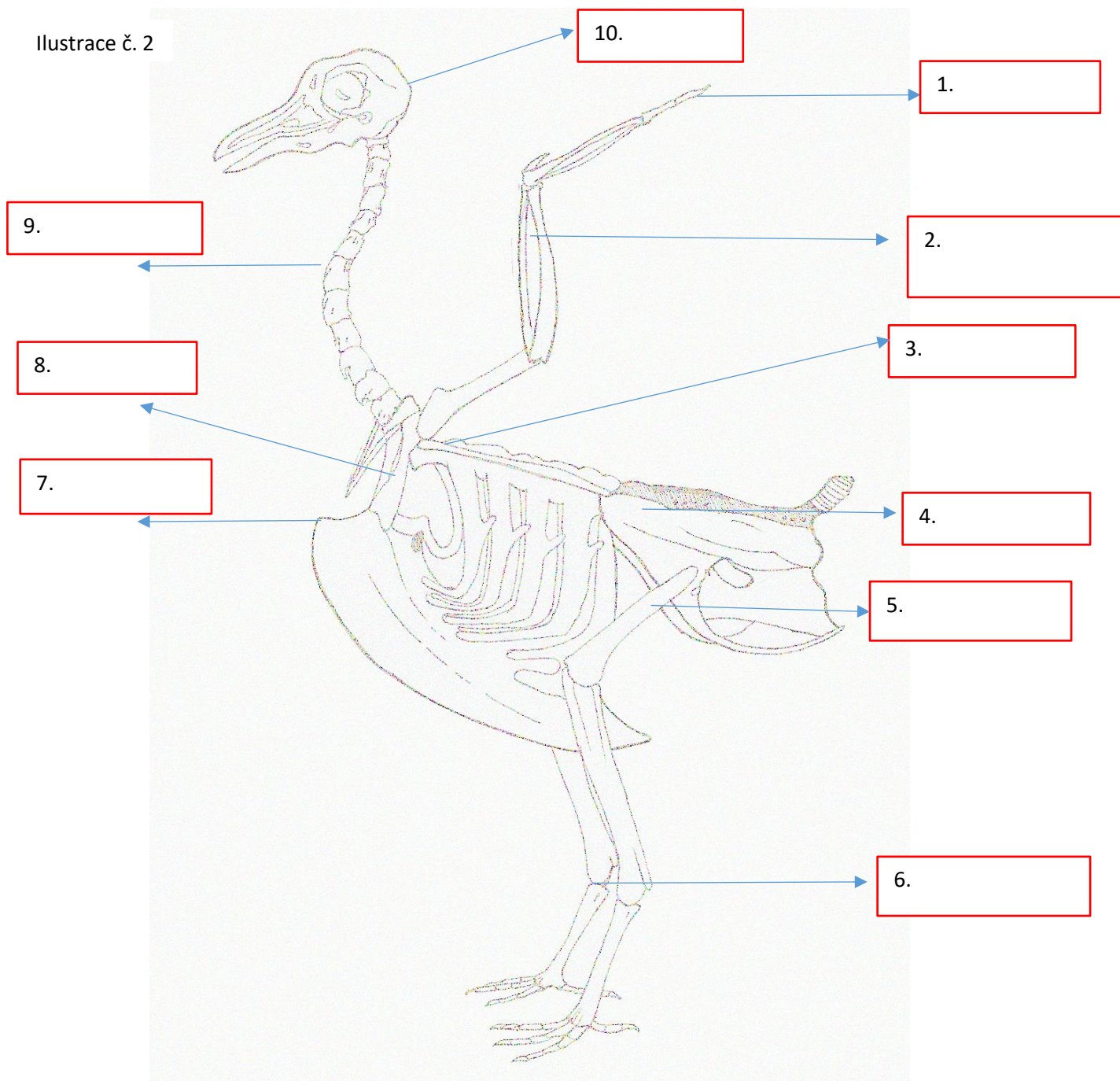


Zadanie nr 3

Przyporządkuj nazwy do szkieletu ptaka, rysunek szkieletu obrysuj kredką.

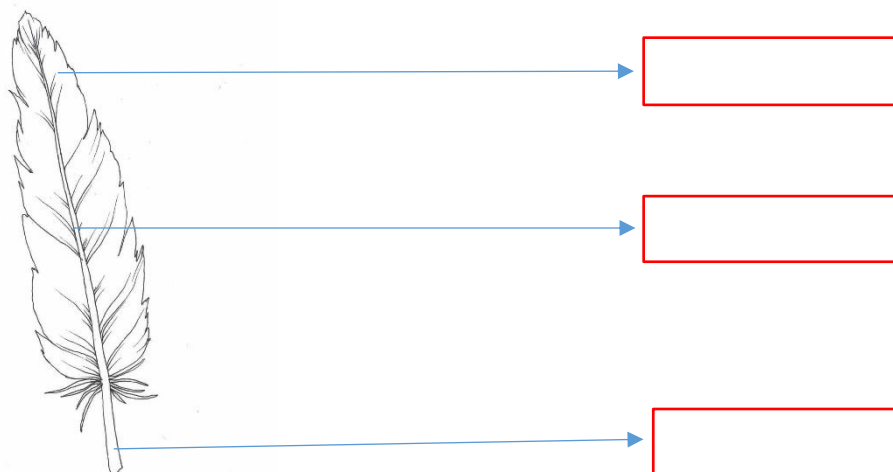
SKOK	GRZEBIEŃ	KOŚĆ ŁOKCIOWA	OBOJCZYK	KRĘGOSŁUP
MIEDNICA	KOŚĆ UDOWA	ŁOPATKA	CZASZKA	PALEC

Ilustracja č. 2



Zadanie nr 4

Nazwij części pióra ptaka – dutka, stosina, chorągiewka



Rysunek nr 3

Zadanie nr 5 – Odpowiedz na podane niżej pytania



Zdjęcie nr 1

Na rysunku jest samiec i samica kaczki krzyżowki.

Czym na pierwszy rzut oka różnią się na zdjęciu?


Jak nazywa się widoczne różnice w wyglądzie samicy i samca?

Jak się nazywa młode kaczki?

Zadanie nr 6

KRZYŻÓWKA – hasło krzyżówki w kolumnie oznaczonej literą T to nazwa najbardziej znanego praptaka.

T



1. Druh kapradiny
2. Houby se rozmnožují
3. Ptáček s nápadným chocholem na hlavě
4. Lesní sudokopytník
5. Zdroj obživy pro ptáčky v zimě
6. Černý pěvec
7. Papratka samičí je
8. Babočka paví oko je
9. Med produkují
10. Pulec je ... žáby
11. Forma kapra
12. Hlasové ústrojí pěvců

