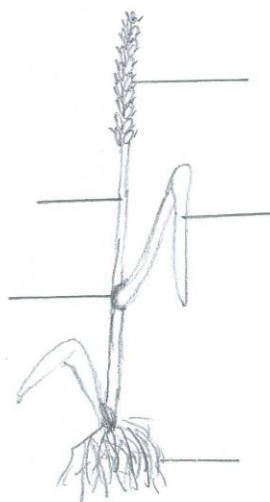


KP 19, Rośliny uprawne

A. Zboża

1. Opisz budowę zboża:

korzeń, liść, kłos, źdźbło, węzeł (kolanko)



2. a) Podaj nazwę zbóż

– użyj następujące wyrazy : **pszenica, jęczmień, owies**

Ilustr. 1

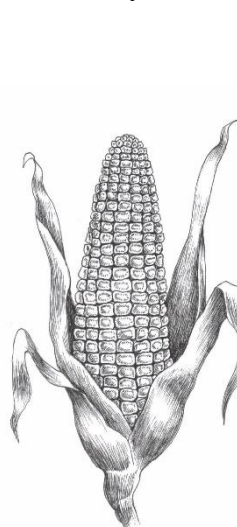
kukurydza, żyto,

b) zaznacz niebieskim kółkiem te, z których robi się **mąkę**

c) czerwonym – **płatki górskie**

d) żółtym – **corn-flakes**

e) zielonym – **slód**



Ilustr. 2



Ilustr. 3



Ilustr. 4



Ilustr. 5



Ilustr. 6



EVROPSKÁ UNIE
Evropské strukturální a investiční fondy
Operační program Výzkum, vývoj a vzdělávání

MŠMT
MINISTERSTVO ŠKOLSTVÍ,
MLÁDEŽE A TĚLOVÝCHOVY

3. Wyobraź sobie, że jesteś młynarzem i spróbuj zrobić mąkę z ziaren. Możesz sobie pomóc tylko przyborami, które znajdziesz na łonie natury.

B. Rośliny okopowe

1. Do roślin okopowych należą:

Nazwa	Produkt
b..... cukrowy	
burak p.....	
z.....k	

2. Jak nazywa się część buraka, którą się okopuje?

- a) bulwa
- b) korzeń bulwiasty

3. Ziemniaki zawierają:

- a) witaminę C
- b) witaminę A

4. Pole to ekosystem stworzony w sposób:

- a) sztuczny
- b) naturalny

5. Ułóż prace na polu w odpowiedniej kolejności. Jeżeli ci się uda, to otrzymiesz jako rozwiązanie nazwę jednej smacznej góralskiej potrawy.

- siew - C 1.....
- orka - L 2.....
- bronowanie - A 3.....
- nawożenie - P 4.....
- zbiory – I 5.....
- opryski - K 6.....



EVROPSKÁ UNIE
Evropské strukturální a investiční fondy
Operační program Výzkum, vývoj a vzdělávání

MŠMT
MINISTERSTVO ŠKOLSTVÍ,
MLÁDEŽE A TĚLOVÝCHOVY

6. Zrób swojego ziemniaczanego ludzika

- pomoce: 1 większy ziemniak (głowa) oraz 1 mniejszy (pokroić na połówki - nogi),
wyprasowane liście, różne elementy roślinne (mech, drobne kawałki drzewa, owoce krzaków)

C. Rośliny strączkowe

1. Rośliny strączkowe tworzy s . r . . , w którym ukryte są . a . i . . a .

2. Podziel nasiona i wklej je do tabelki.

groch zwyczajny	fasola zwykła
soczewica jadalna	soja warzywna

3. Które, ważne dla naszego zdrowia, składniki mineralne zawierają strączki? Z podanych liter ułóż właściwe słowa:

FSFORO _____

POSTA _____


PAWŃ _____

GNEMAZ _____

LOZEAZ _____

D. Rośliny oleiste, rośliny pastewne, rośliny włókniste

- Podaj nazwy roślin na zdjęciach i wpisz pod każdym zdjęciem odpowiednią literę oznaczającą nazwę grupy roślin
O – roślina oleista, P – roślina pastewna, T – roślina włóknista



EVROPSKÁ UNIE
Evropské strukturální a investiční fondy
Operační program Výzkum, vývoj a vzdělávání



 <p>obr. 3</p>	 <p>obr. 4</p>



EVROPSKÁ UNIE
Evropské strukturální a investiční fondy
Operační program Výzkum, vývoj a vzdělávání



MINISTERSTVO ŠKOLSTVÍ,
MLÁDEŽE A TĚLOVÝCHOVY