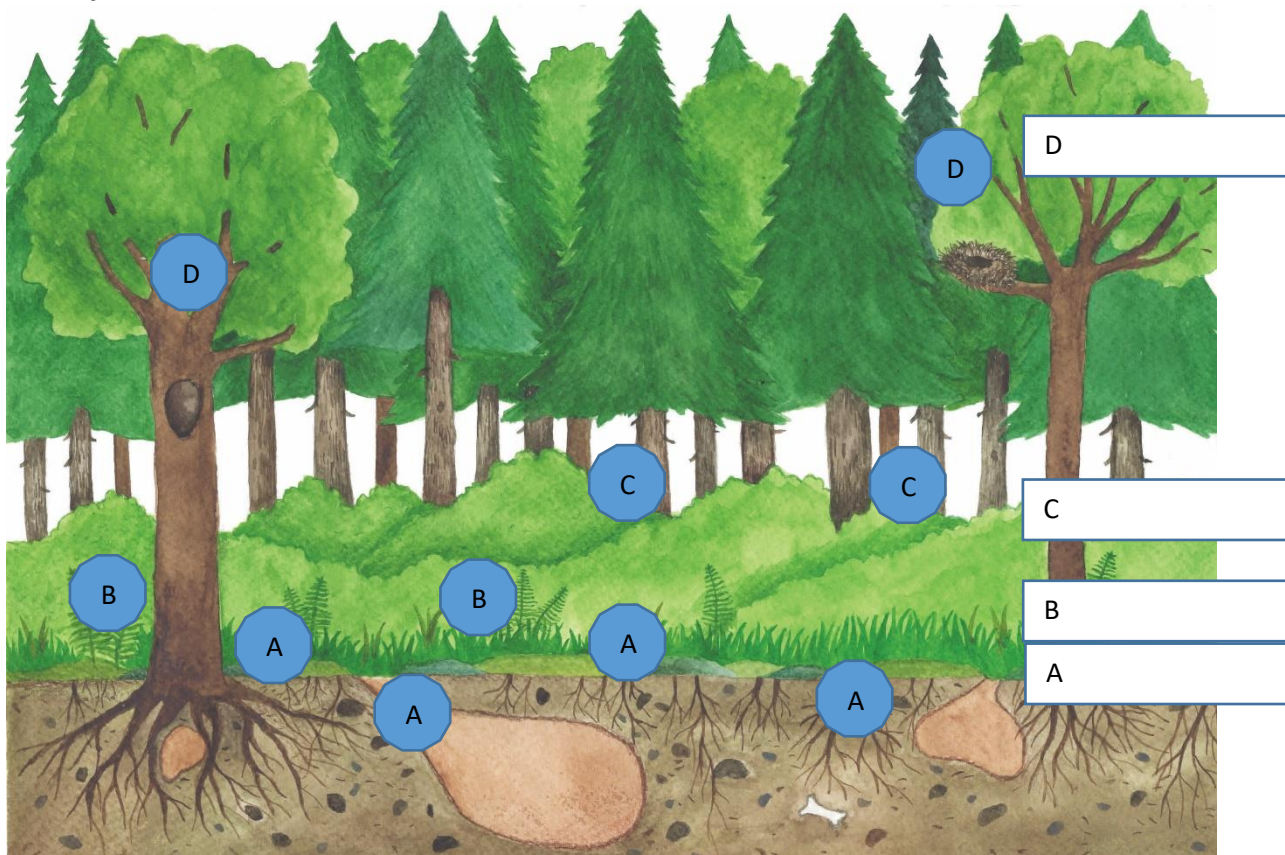












KP 5, Warstwy lasu i żyjące w nich zwierzęta

1. Wpisz w ramki obok rysunku lasu nazwy warstw lasu

2. Przyjrzyj się zwierzętom na zdjęciach w tabelce pod rysunkiem i powtórz ich nazwy. Do każdego kółka przy zdjęciu wpisz literę A, B, C lub D w zależności od tego, w której warstwie lasu żyje dane zwierzę.



Ilustr. 1

<p>wiewiórka pospolita</p>  <p>obr.1</p>	<p>mrówka rudnica</p>  <p>obr.2</p>	<p>dzięcioł czarny</p>  <p>obr. 3</p>	<p>jeż wschodni</p>  <p>obr. 4</p>	<p>lis rudy</p>  <p>obr. 5</p>
<p>dżdżownica ziemna</p>  <p>obr. 6</p>	<p>salamandra plamista</p>  <p>obr. 7</p>	<p>żmija zygzakowata</p>  <p>obr. 8</p>	<p>krocionóg</p>  <p>obr. 9</p>	<p>pokrzywnica</p>  <p>obr. 10</p>



EVROPSKÁ UNIE
Evropské strukturální a investiční fondy
Operační program Výzkum, vývoj a vzdělávání


 MINISTERSTVO ŠKOLSTVÍ,
MLÁDEŽE A TĚLOVÝCHOVY