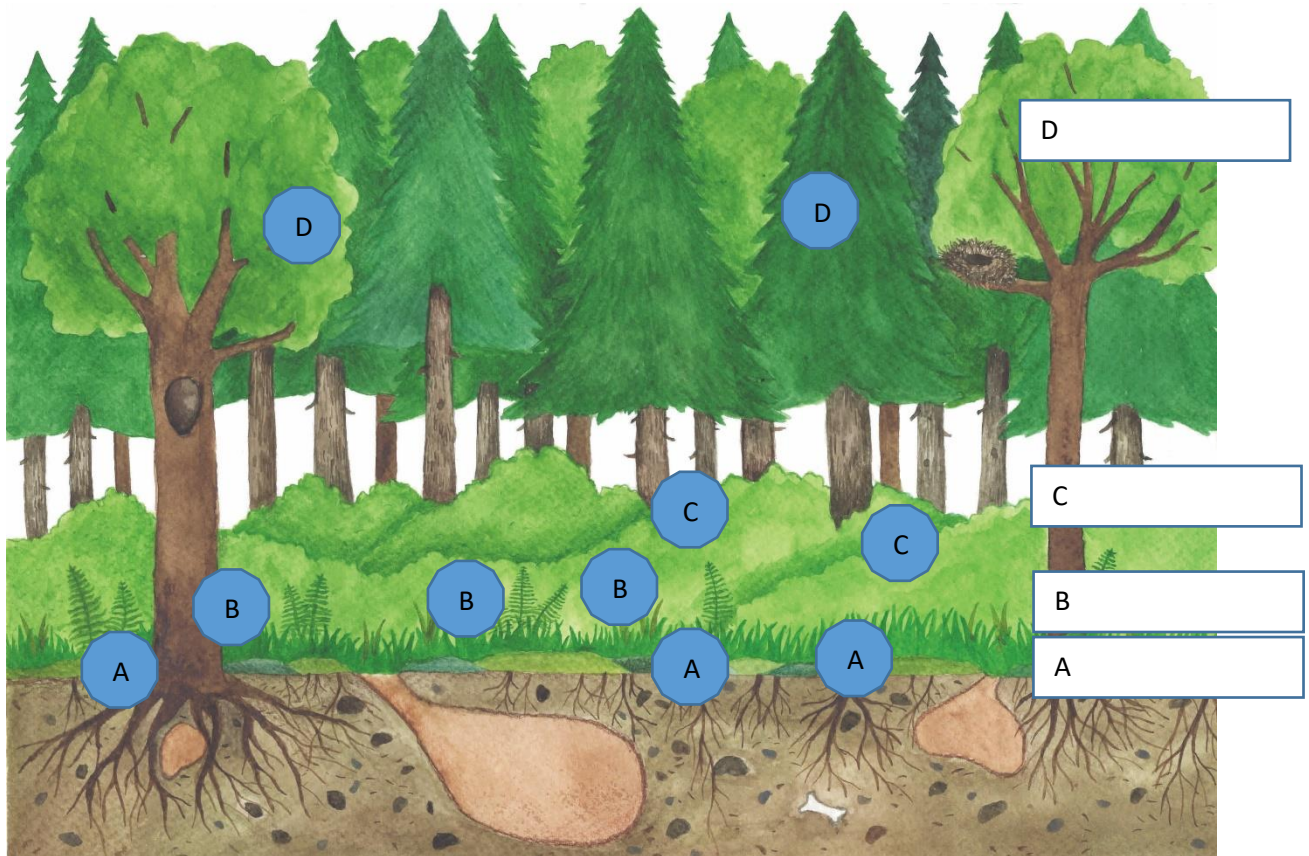












KP 3, Warstwy lasu i rosnące w nich rośliny

1. Wpisz w ramki obok rysunku lasu nazwy warstw lasu

2. Przyjrzyj się roślinom na zdjęciach w tabelce pod rysunkiem i powtórz ich nazwy. Do każdego kółka przy zdjęciu wpisz literę A, B, C lub D, w zależności od tego, w której warstwie lasu rośnie dana roślina.



Ilustr. 1

<p>bielistka siwa</p>  <p>obr. 1</p>	<p>nerecznica samcza</p>  <p>obr. 2</p>	<p>jeżyna</p>  <p>obr. 3</p>	<p>torfowiec</p>  <p>obr. 4</p>	<p>buk</p>  <p>obr. 5</p>
<p>malina</p>  <p>obr. 6</p>	<p>borówka czarna</p>  <p>obr. 7</p>	<p>jodła</p>  <p>obr. 8</p>	<p>poziomka</p>  <p>obr. 9</p>	<p>borowik</p>  <p>obr. 10</p>

