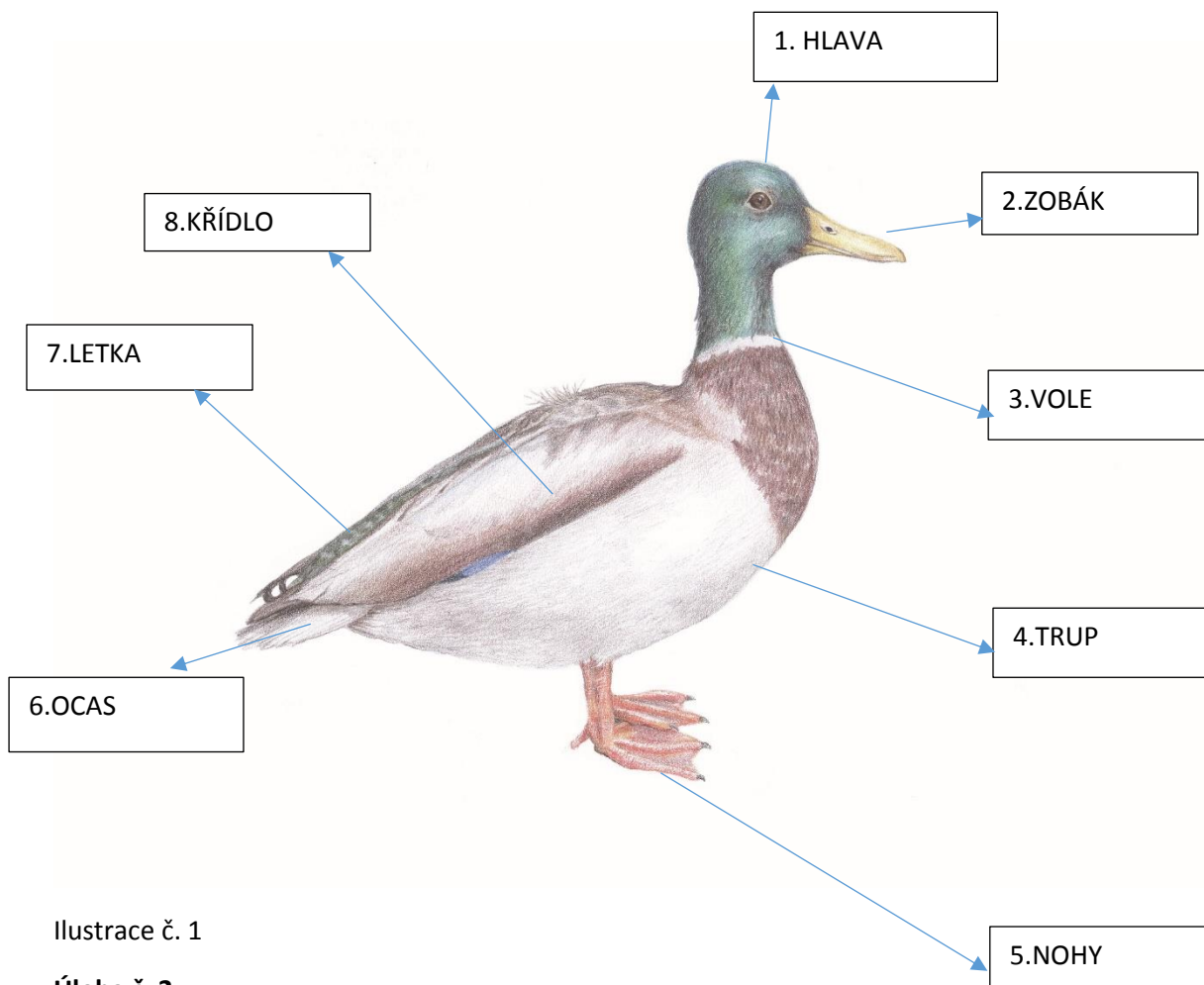


PL 5 Stavba těla ptáků

Úloha č. 1

Popiš základní části těla ptáčka. Vyber správný pojem a zapiš do rámečku.

HLAVA	KŘÍDLO	TRUP	ZOBÁK
OCAS	VOLE	NOHY	LETKA



Ilustrace č. 1

Úloha č. 2

Odpověz na následující otázky.

K ČEMU SLOUŽÍ VOLE? K nabobtnání potravy a následně k lepšímu zpracování.

CO MAJÍ NA NOHÁCH DRAVCI? Silné drápy, které jim slouží k uchycení kořisti.

CO JE LETKA? Letka je dlouhé ptačí pero na křídle.

POZNÁŠ PTÁKA NA OBRÁZKU V ÚLOZE Č. 1? Kachna divoká

PATŘÍ TENTO PTÁK MEZI PTÁKY KRMIVÉ NEBO NEKRMIVÉ? Nekrmivé

CO ZNAMENÁ VÝRAZ PTÁK KRMIVÝ A PTÁK NEKRMIVÝ? Nekrmivý – mláďata se líhnou již opeřená prachovým peřím a schopna hledat potravu samostatně. Krmivý – rodiče mláďata musí krmit.

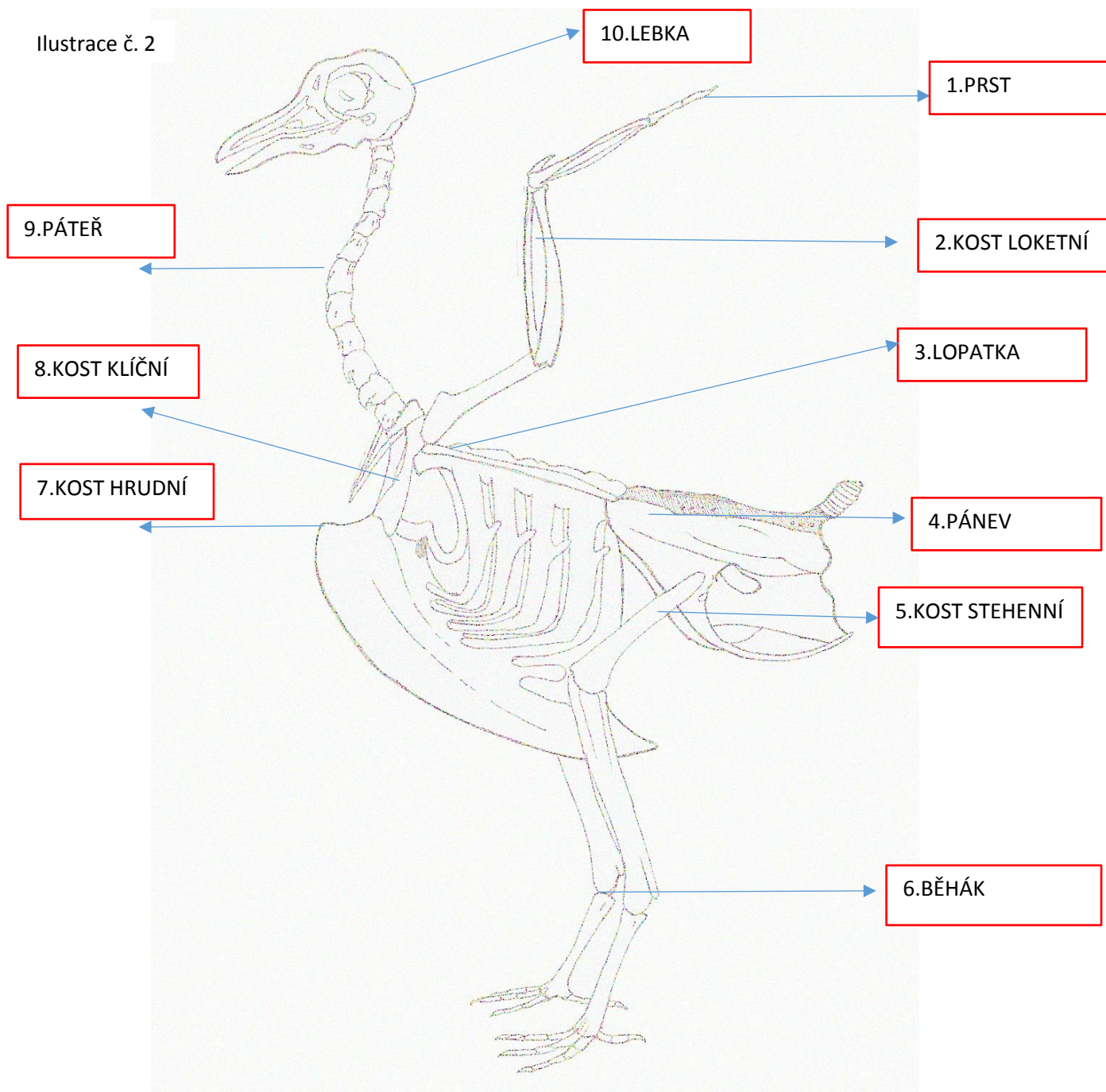


Úloha č. 3

Přiřaď správné názvy k ptačí kostře, obrys kostry obtáhni pastelkou.


BĚHÁK	KOST HRUDNÍ	KOST LOKETNÍ	KOST KLÍČNÍ	PÁTEŘ
PÁNEV	KOST STEHENNÍ	LOPATKA	LEBKA	PRST

Ilustrace č. 2



Úloha č. 4

Popiš ptačí pero - brk, osten, prapor



Ilustrace č. 3

Úloha č. 5 – Odpověz na níže uvedené otázky



Obrázek č. 1

Na obrázku je samec a samice kachny divoké.

Čím se podle obrázku na první pohled odlišují? Zbarvením peří.

Jaký termín označuje, když se od sebe samice a samec na první pohled liší? Pohlavní dvojtvárnost.

Jak se označuje mládě kachny divoké? Kachně.

