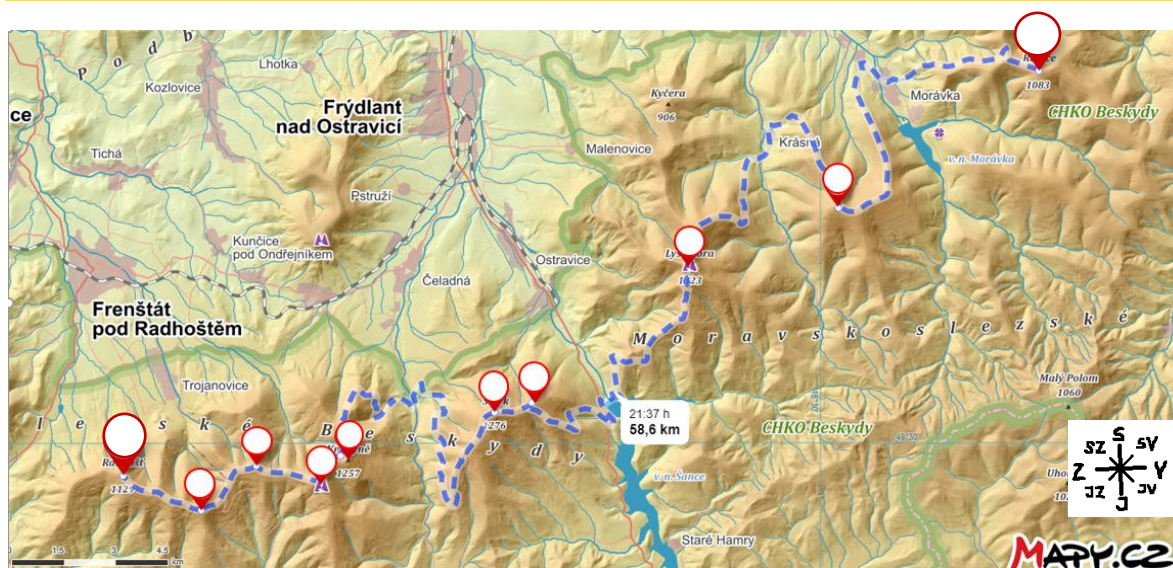


PL 5 Cesta po vrcholech Beskyd v ČR

Při **pomyslném** putování po turistických trasách **zjistíte názvy** nejvyšších vrcholů Beskyd na území Česka.

A Do následující mapky nejprve **označte** ve směru od SV k JZ **vrcholy písmeny**, a to tak, jak jsou za sebou písmena v tabulce níže (první vrchol má tedy písmeno A).

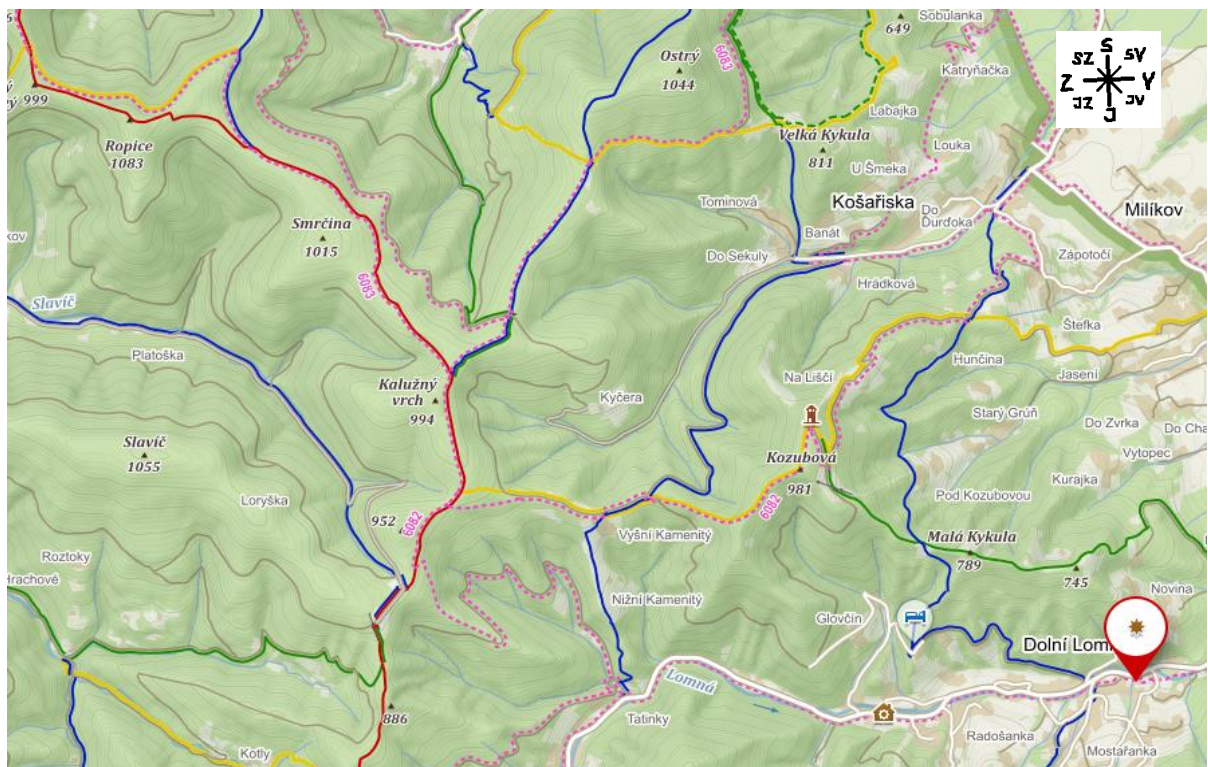


B Podle popisu pod mapkami 1–6 putujte po vyznačených cestách až k hledaným **vrcholům**. Každý z nich **napište do rámečku** pod mapkou a připište jeho nadmořskou výšku. Rámeček **vystříhnete**. Název a nadmořskou výšku **zapište i do tabulky**. Vystřížené rámečky pak **seřadte** podle nadmořských výšek **sestupně** a **pořadí zapište** do tabulky.

	Název vrcholu	Nadmořská výška (v metrech nad mořem)	Pořadí
A			
B			
C			
D			
E			
F			
G			
H			
I			
J			



1.



	turistické značené trasy		lyžařský vlek		hlavní silnice		rozhledna		Říp 455	vrchol s názvem a výškou
--	--------------------------	--	---------------	--	----------------	--	-----------	--	------------	-----------------------------

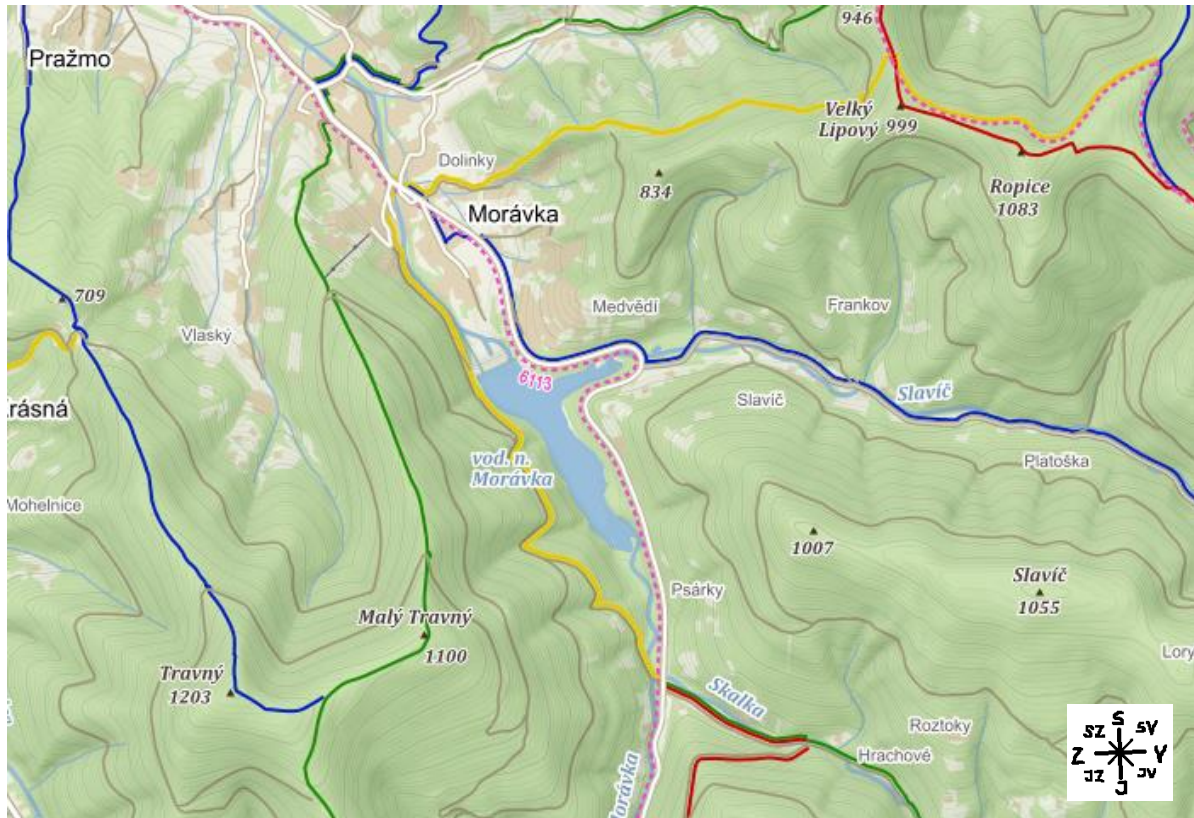
Naše výprava začíná u ekologického centra URSUS v Dolní Lomné (červená značka), vydejte se po hlavní cestě směrem na západ až dojdete k nedaleké modré turistické trase. Pokračujte po ní na severozápad, na rozcestí se po zelené vydejte na západ a poté z rozhledny na Kozubové po žluté jihozápadním směrem. Žlutá trasa navazuje na červenou, po které pokračujte na sever. Postupně minete po levé straně 3 vrcholy, z nichž ten třetí je náš hledaný vrchol A, _____ (_____ m n. m.)

A

_____ m n. m.



2.



	turistické značené trasy turistický směrovník		lyžařský vlek		hlavní silnice		rozhledna		Říp 455	vrchol s názvem a výškou
--	--	--	---------------	--	----------------	--	-----------	--	------------	-----------------------------

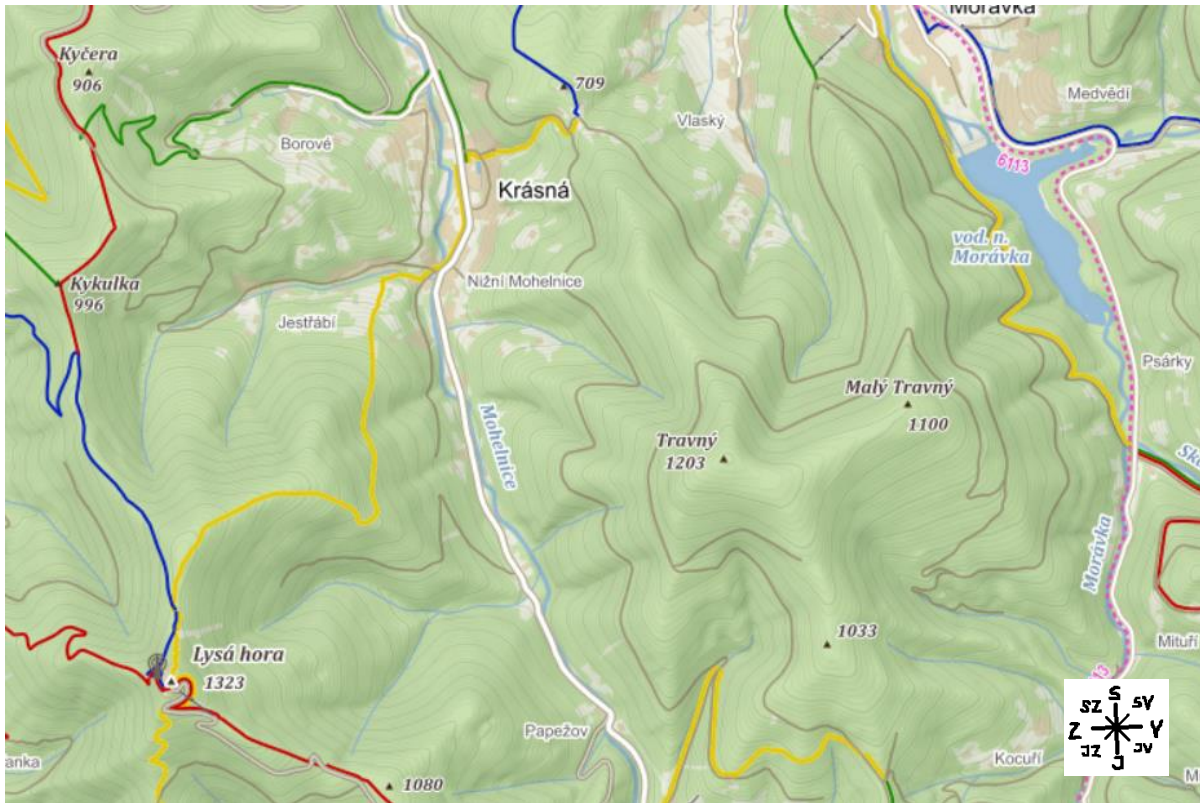
Vyhledejte vrchol (A) z předchozí části mapy a pokračujte od něj po červené na západ až k rozcestí, kde přejděte na žlutou trasu a jděte stále směrem na západ až dorazíte k hlavní silnici v centru Morávky. Přejděte hlavní cestu (stále pokračuj po žluté) a při nejbližší příležitosti odbočte k lyžařskému vleku, který vás „vyveze“ k zelené turistické trase. Po zelené se vydejte na jih, cestou minete vedlejší vrchol (1100 m n. m.) našeho hledaného vrcholu B, ke kterému vás dovede modrá turistická trasa, jedná se o _____ (_____ m n. m.).

B

_____ m n.m.



3.



	turistické značené trasy turistický směrovník		lyžařský vlek		hlavní silnice		rozhledna		říp vrchol s názvem a výškou
---	--	---	---------------	---	----------------	---	-----------	---	------------------------------------

Najděte si modrou turistickou trasu a předchozí, již známý vrchol (B) a pokračujte severně dál po modré. Na rozcestí přejděte na žlutou a po dlouhém stoupání jihozápadním směrem dorazíte k nejvyššímu vrcholu Beskyd na našem území, což je _____
(_____ m n. m.), bod C.

C

_____ m n. m.



4.



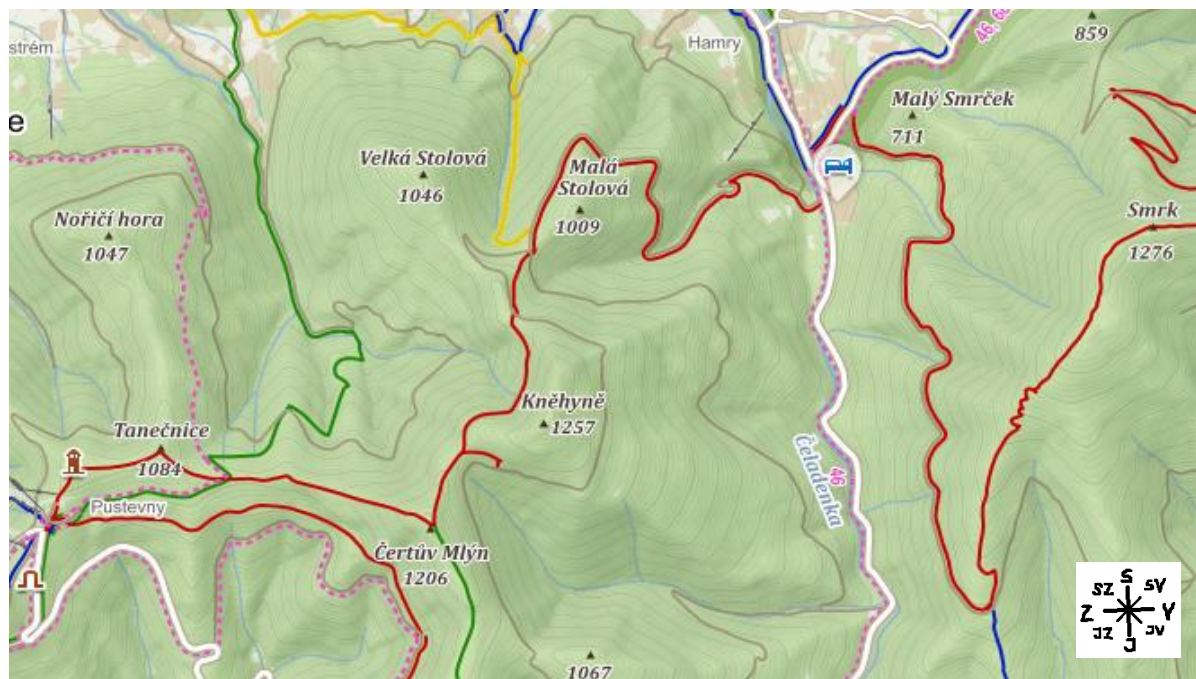
	turistické značené trasy turistický směrovník		lyžařský vlek		hlavní silnice		rozhledna		Říp 455 vrchol s názvem a výškou
--	--	--	---------------	--	----------------	--	-----------	--	---

Vyhledejte předešlý vrchol C a od něj pokračujte jižním směrem po žluté až k přehradě (Šance), pokračujte dál po žluté turistické trase, která se v poslední části napojuje na modrou turistickou trasu. V tomto místě míjíte po pravé straně hledaný vrchol D _____ (_____ m n. m.). Po napojení na červenou trasu směřujte jihozápadním směrem až ke druhému hledanému vrcholu E, který má velmi podobný název _____ (_____ m n. m.).

D	_____ m n. m.
E	_____ m n. m.



5.



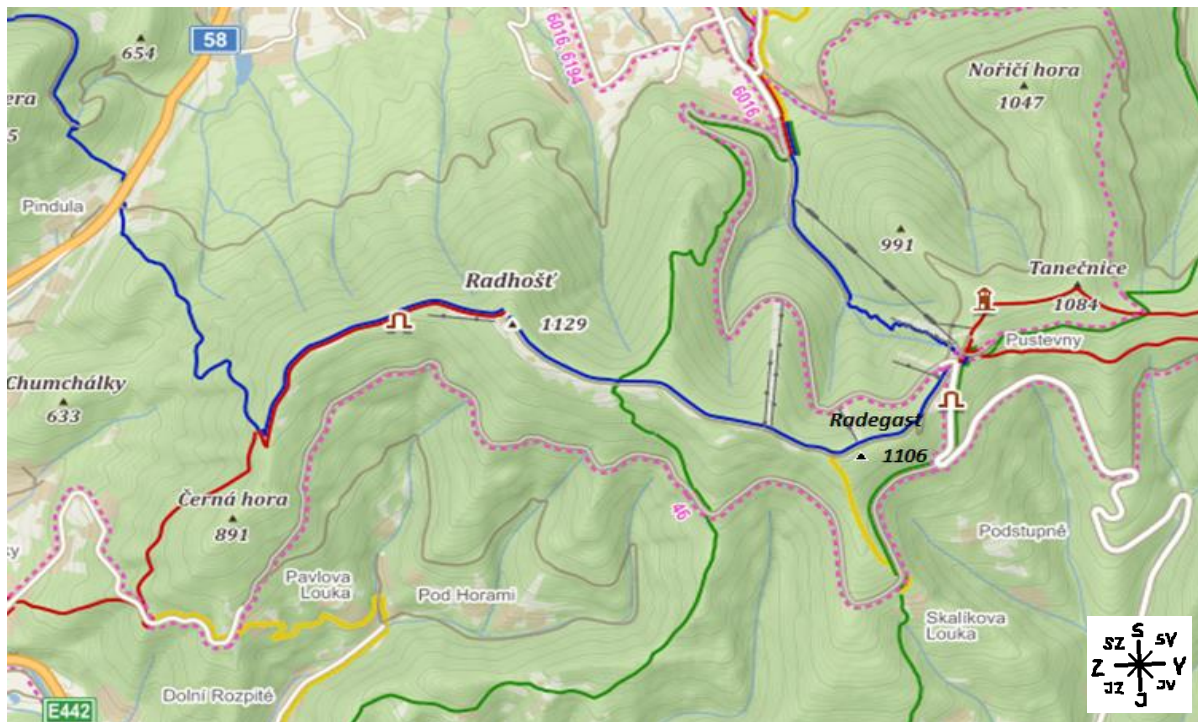
	turistické značené trasy		lyžařský vlek		hlavní silnice		rozhledna		vrchol s názvem a výškou
--	--------------------------	--	---------------	--	----------------	--	-----------	--	--------------------------

V této části mapy jsou hned tři hledané vrcholy a všechny na červené turistické trase. Najděte na červené trase vrchol z minulé mapy (E) a pokračujte až k místu, kde trasa protíná hlavní cestu. Červenou trasu neopouštějte, projdete místem, kde lze odbočit na žlutou trasu, za tím dál na jih budete míjet po levé straně první hledaný vrchol F _____ (_____ m n. m.). O něco dále se pak v místě křížení červené trasy se zelenou nachází vrchol G _____ (_____ m n. m.). Od něj se vydejte západním směrem, cestou se opět kříží červená trasa se zelenou. Ještě před rozhlednou pak narazíte na další tisícimetrový vrchol Beskyd, vrchol H _____ (_____ m n. m.).

F	_____ m n. m.
G	_____ m n. m.
H	_____ m n. m.



6.



	turistické značené trasy		lyžařský vlek		hlavní silnice		rozhledna		říp	vrchol s názvem
	turistický směrovník							455		a výškou

Zbývají nám poslední dva vrcholy a názvy obou začínají stejným písmenem. Za rozhlednou přejděte z červené trasy na modrou, vydejte se na jih a nedaleko místa, kde se napojuje žlutá turistická trasa, minete po levé straně první vrchol, vrchol I, _____ (_____ m n. m.). Pokračujte dále po modré, až vystoupáte k poslednímu z desíti nejvyšších vrcholů Moravskoslezských Beskyd, vrcholu J, _____ (_____ m n. m.).

c Vystřižené **rámečky** s názvy hor nezapomeňte **seřadit sestupně** podle nadmořské výšky a **vepsat do posledního sloupce tabulky**.

I	_____ m n. m.
J	_____ m n. m.

