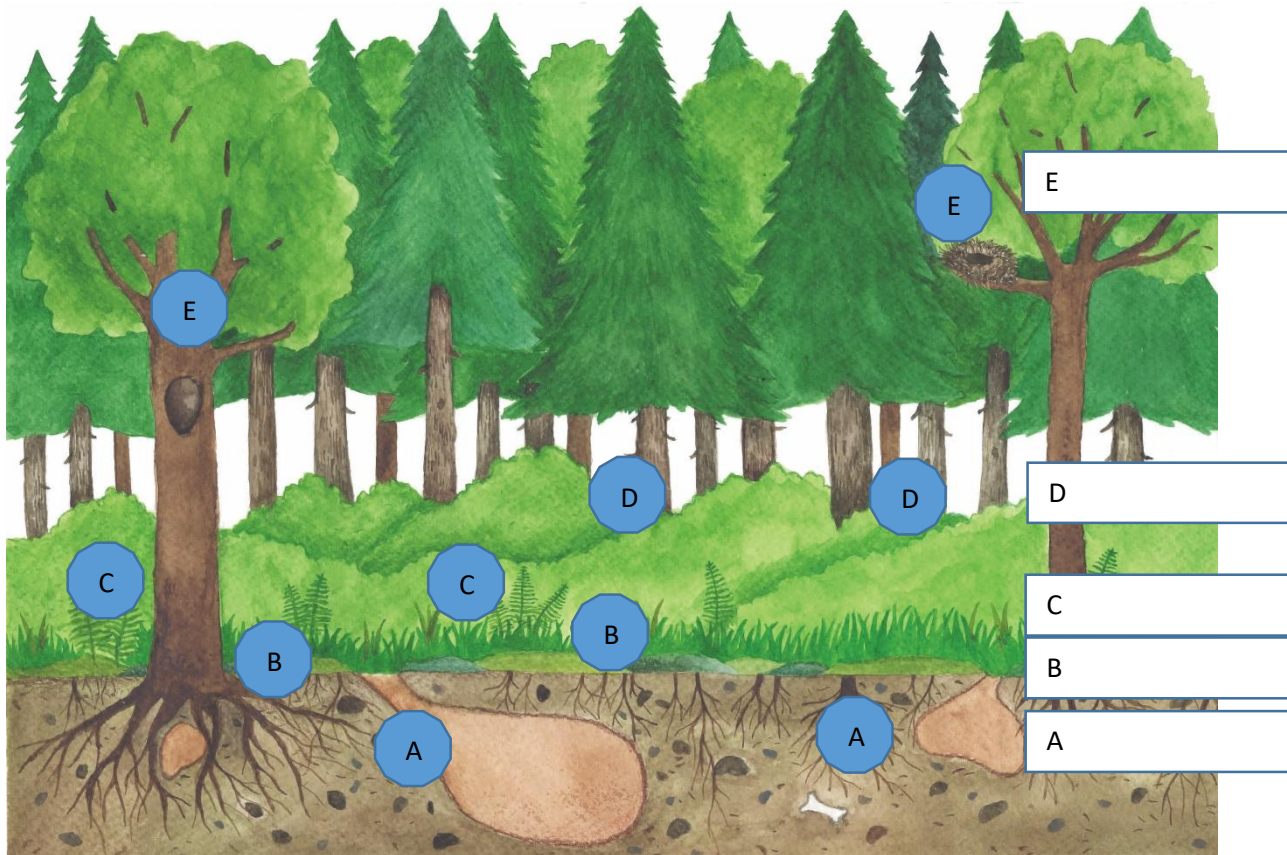












PL 5, Lesní patra a živočichové v nich

1. Do rámečků vedle obrázku lesa napiš názvy lesních pater

2. Pod obrázkem si prohlédni tabulku s fotografiemi živočichů a zopakuj si jejich názvy. Do kroužku vedle obrázku napiš písmeno A, B, C, D, E podle toho, ve kterém patře tito živočichové žijí.



Ilustr. 1

<p>veverka obecná</p>  <p>obr.1</p>	<p>mravenec lesní</p>  <p>obr.2</p>	<p>datel černý</p>  <p>obr. 3</p>	<p>ježek západní</p>  <p>obr. 4</p>	<p>liška obecná</p>  <p>obr. 5</p>
<p>žížala obecná</p>  <p>obr. 6</p>	<p>mlok skvrnitý</p>  <p>obr. 7</p>	<p>zmije obecná</p>  <p>obr. 8</p>	<p>mnohonožka</p>  <p>obr. 9</p>	<p>pěvuška modrá</p>  <p>obr. 10</p>



EVROPSKÁ UNIE
Evropské strukturální a investiční fondy
Operační program Výzkum, vývoj a vzdělávání

