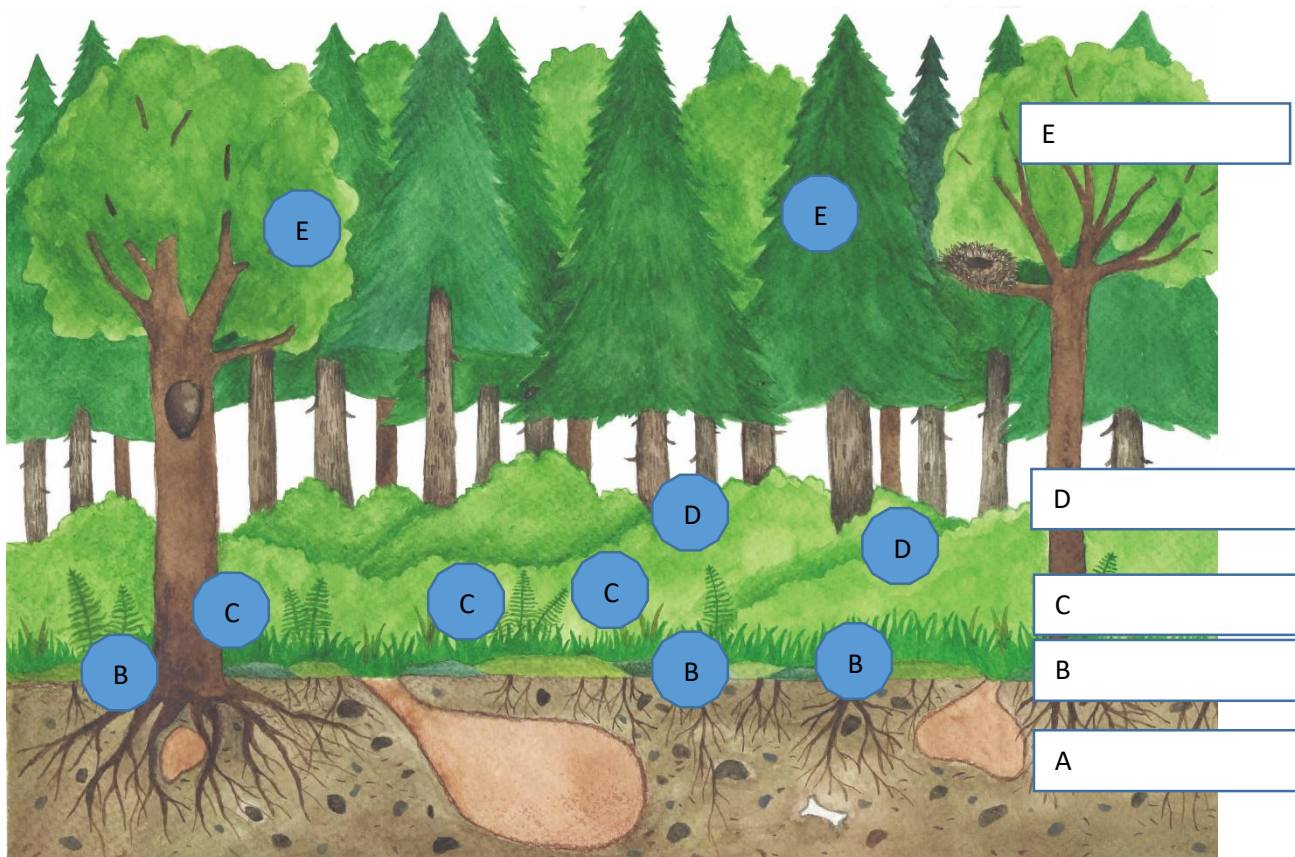












PL 3, Lesní patra a rostliny v nich

1. Do rámečků vedle obrázku lesa napiš názvy lesních pater

2. Pod obrázkem si prohlédni tabulku s fotografiemi rostlin a zopakuj si jejich názvy. Do kroužku vedle obrázku napiš písmeno A, B, C, D, E podle toho, ve kterém patře se tyto rostliny nacházejí.



Ilustr. 1

<p>bělomech</p>  <p>obr. 1</p>	<p>kapraď samec</p>  <p>obr. 2</p>	<p>ostružiník</p>  <p>obr. 3</p>	<p>rašeliník</p>  <p>obr. 4</p>	<p>buk</p>  <p>obr. 5</p>
<p>maliník</p>  <p>obr. 6</p>	<p>brusnice borůvka</p>  <p>obr. 7</p>	<p>jedle</p>  <p>obr. 8</p>	<p>jahodník</p>  <p>obr. 9</p>	<p>hřib</p>  <p>obr. 10</p>



EVROPSKÁ UNIE
Evropské strukturální a investiční fondy
Operační program Výzkum, vývoj a vzdělávání

MŠMT
MINISTERSTVO ŠKOLSTVÍ,
MLÁDEŽE A TĚLOVÝCHOVY